

EDUARDO UMAÑA MENDOZA IED

OLIMPIADAS MATEMÁTICAS







CICLO 1 - 2021

- 1. Sigue el enlace, lee y resuelve cada uno de los ejercicios**
- 2. Al finalizar da clic en **Terminado** y luego en **Comprobar mis respuestas**. (Espera un momento mientras aparece tu calificación).**
- 3. Toma una captura de pantalla de tu nota y envíala como mensaje interno a tu profesor.**



ACTIVIDAD 1

Une con una línea, el número con la cantidad según corresponda

15

5

12



24

6

9


ACTIVIDAD 2

Arrastra los círculos hasta el gusano ordenando los números de mayor a menor.



ACTIVIDAD 3

¿Cuántas manzanas hay en los árboles?




12

17

15

ACTIVIDAD 4

Crucigramas de operaciones



Imágenes Educativas.com





<https://www.imageneseducativas.com/>

The crossword puzzle grid contains the following arithmetic problems:

- Across 1: $7 - 3 =$
- Across 2: $\square + 2 =$
- Across 3: $\square + 1 =$
- Across 4: $6 + \square =$
- Across 5: $\square - 2 =$
- Across 6: $2 + \square =$
- Across 7: $\square - 5 =$
- Across 8: $3 + \square = 5$
- Across 9: $\square + 4 =$
- Down 1: $\square + 5 =$
- Down 2: $\square - 4 =$
- Down 3: $\square + 4 =$
- Down 4: $\square - 3 =$
- Down 5: $\square - 3 =$
- Down 6: $\square + 4 =$

ACTIVIDAD 5

Arrastra las fichas y arma el rompecabezas



¿Escribe qué mensaje te deja la imagen?