


Όνομα: Ημερομηνία:

Κεφάλαιο 53 - Γεωμετρικά μοτίβα

1. Δίνεται το παρακάτω μοτίβο. Συμπληρώστε το υπόλοιπο με τα όσα από τα σχήματα της σειράς Β ταιριάζουν.




Το στοιχείο που επαναλαμβάνεται και δημιουργεί ένα σχέδιο, λέγεται **γεωμετρικό μοτίβο**.

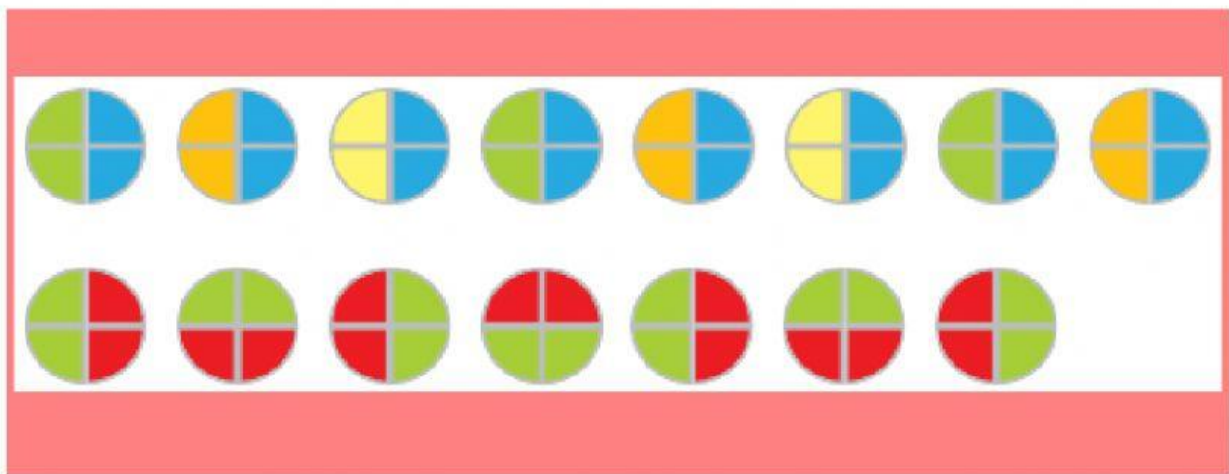

2. Ανακάλυψε τον κανόνα του μοτίβου. Τι επαναλαμβάνεται κάθε φορά; Δείξε το επιλέγοντας από αριστερά προς τα δεξιά τα αρχικά σχήματα.



3. Ποιο είναι το επόμενο σχέδιο του μοτίβου; Γράψε τον κατάλληλο αριθμό στο πλαίσιο.



4. Ανακάλυψε τον κανόνα του μοτίβου και συνέχισε το υπόλοιπο παίρνοντας όσα από τα σχήματα του πλαισίου ταιριάζουν.



5. Συνέχισε το μοτίβο σε κάθε σειρά.

