


Математик процент интерактив дасгал

Зааварчилгаа

1. Даалгавраа гүйцэтгэж дуусаад  дараарай.
2. Зөв хариулт ногоон, буруу хариулт улаанаар тэмдэглэгдэнэ

3.

What do you want to do?

 
Check my answers Email my answers to my teacher

Дарж авсан
оноогоо
хараарай

4. Авсан оноо нь шууд гарна оноотойгоо танилцаарай.



Амжилт хүсье

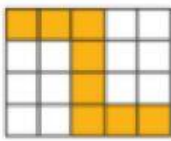


1. Цэгийн оронд тохирох үгийг нөхөж бичээрэй


Ямар нэг тоо буюу аливаа юмсыг 100 тэнцүү хэсэг болгон хуваагаад түүний тодорхой хэсгийг илэрхийлэх тоог гэнэ.

2. Будсан хэсэг нь нийт талбайн хэдэн процент вэ? Холбоорой

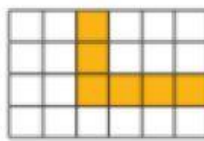
а.



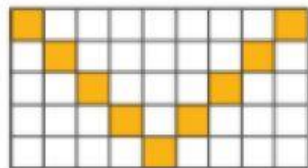
б.



в.



г.



A. 40%

Б. 20%

В. 52%

Г. 25%

3. Аравтын бутархайг процент руу шилжүүлээрэй.

$0.48 =$

$0.6 =$

$1.35 =$

$0.234 =$

$0.65 =$

$1.42 =$

Дүгнэлт

Аравтын бутархайг процентоор илэрхийлэхдээ бутархайн таслалыг хоёр орноор арагшлуулах ба 100 дахин ихэсгэнэ.

4. Энгийн бутархайг процентоор илэрхийлээрэй.

$$\frac{1}{2} =$$

$$\frac{3}{4} =$$

$$\frac{2}{5} =$$

$$\frac{8}{25} =$$

Дүгнэлт
Энгийн бутархайг
процентоор
илэрхийлэхдээ 100
хуваарьтай аравтын
бутархай руу
шилжүүлнэ.

5. Ямар тооны 52% нь 2600 байх вэ?

А. 3000

Б. 50

С. 5000

Д. 500

6. Эгч сарын цалингийнхаа 25% буюу 250 000 төгрөгийг хүнсэнд зориулжээ. Хэдэн төгрөгийн цалин авсан бэ?

А. 10000 төг

Б. 1 000 000 төг

В. 750 000 төг

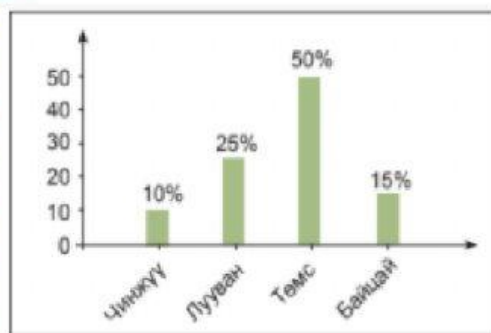
7. Нэг ажилчин төлөвлөгөөгөө 32.5 процентоор давуулан биелүүлж, 530 цамц оёсон бол төлөвлөснөөс хэдэн цамц илүү оёсон бэ?

A. 400

B. 130

B. 930

8. Болдох 2000м.кв талбайд ногоо тарьжээ. Ямар хэмжээний талбайд байцай тарьсан бэ?



а. 20 м.кв

в.300м.кв

с. 1000м.кв

д. 500м.кв

9. 5а анги 40 сурагчтай. Түүний 45% нь дугуйланд хамрагддаг бол хэдэн хүүхэд дугуйланд хамрагддаггүй вэ?

A. 19

b. 18

c. 22

d. 180

10. Сандагийнх оны эцэст 480 хонь тоолуулсан нь 1200 толгой малын хэдэн хувь болох вэ?

a. 100

б. 12

c. 40

d. 5760

Баярлалаа

