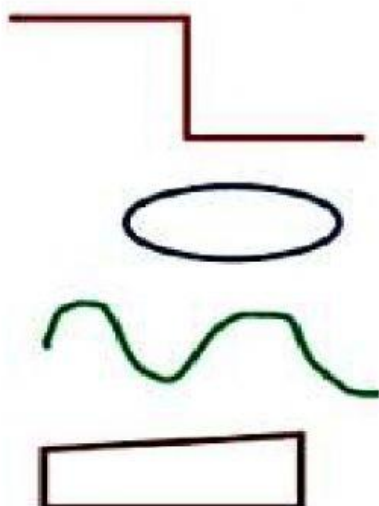


VALORACIÓN ACADÉMICA I PERIODO. GEOMETRÍA.

1. Une con una flecha las Líneas con su respectivo nombre.




LÍNEA POLIGONAL CERRADA

LÍNEA CURVA CERRADA

LÍNEA RECTA

LÍNEA CURVA

2. Arrastra donde corresponda.



Líneas abiertas	Líneas cerradas

3. Lee las siguientes afirmaciones, luego escribe **V** si es verdadero o **F** si es falso según corresponda.

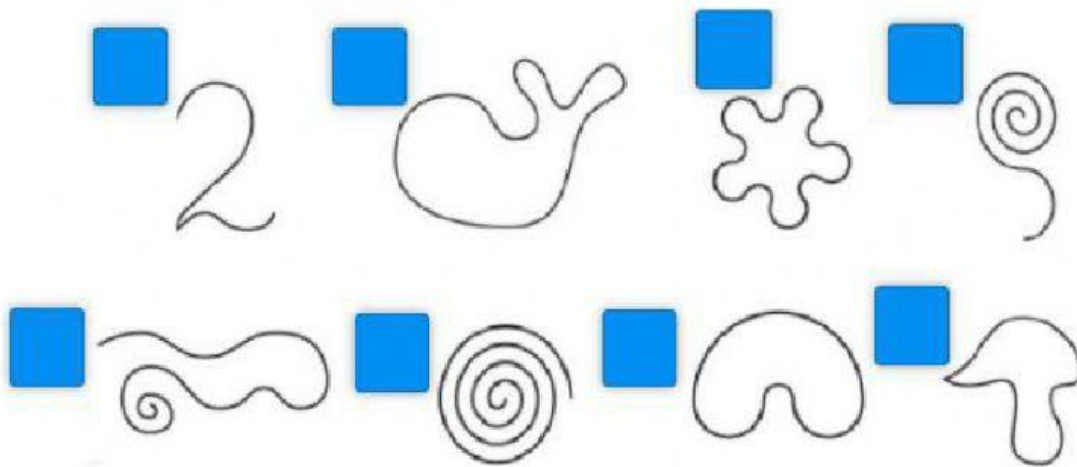
✚ Las líneas rectas son aquellas que poseen curvas.

✚ Las líneas curvas cerradas son aquellas que tiene forma circular.

✚ Algunas líneas curvas tienen forma de montañas.

✚ Las líneas poligonales cerradas son aquellas que forman círculos.

4. Observa las figuras y selecciona las líneas abiertas.



5. Observa y arrastra la figura según corresponda.

Línea	Abierta	Cerrada
