


Visualiza el video.
Da clic en la imagen




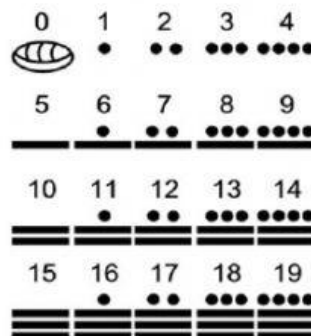
Visualiza el video.
Da clic en la imagen



1. Escribe a qué civilización mesoamericana o andina corresponde cada imagen.






















Actividad de repaso

Tema

Las civilizaciones mesoamericanas y andinas

Sexto grado

2. Relaciona las dos columnas.

- | | |
|---|------------------------|
| 1. Se le conoce como la "cultura madre": | () Teotihuacán |
| 2. Es la "Ciudad de los Dioses": | () Tenochtitlan |
| 3. Esta cultura creó un sistema de numeración vigesimal que incluía el número cero: | () Monte Albán |
| 4. Fue capital del imperio tolteca: | () Tula |
| 5. Principal ciudad de los zapotecas: | () Clásico |
| 6. Este imperio fue conquistado por los españoles al mando de Hernán Cortés: | () Preclásico |
| 7. Principal ciudad de los mexicas: | () Posclásico |
| 8. ¿En qué periodo se ubica la cultura Olmeca? | () Olmeca |
| 9. ¿En qué periodo se ubican la cultura Tolteca y Mexica? | () Maya |
| 10. ¿En qué periodo se ubican las culturas: Maya, Teotihuacana y Zapoteca? | () Mexica |



Actividad de repaso
Tema
Las civilizaciones
mesoamericanas y andinas

Sexto grado

3. Contesta lo que se te pide.

1. Ciudad principal construida por los incas, a una altura de 2490 m sobre el nivel del mar:

2. ¿Cuáles fueron los principales cultivos de los incas?

3. ¿Cómo denominaron al sistema de contabilidad hecho con hilos de colores que anudaban para registrar cantidades y acontecimientos?

4. ¿Cómo se organizaba la sociedad inca?
