
















































Aluno (a): _____

São João de Pirabas, _____ de _____ de 2021.

Atividade 02 de Matemática.

1- CONTE E REGISTRE NA TABELA AS QUANTIDADES DOS ELEMENTOS DA PÁSCOA:

		
<input type="text"/>	<input type="text"/>	<input type="text"/>


2- CALCULE O RESULTADO DAS ADIÇÕES E LIGUE CADA OVO DE PÁSCOA A SUA CESTINHA:

 $2+6$

•

•



 $4+1$

•

•




 $5+2$

•

•



3- QUEM SÃO OS VIZINHOS? ESCREVA-OS:



	16	
	12	
	17	
	11	
	18	
	14	

4- OBSERVE A IMAGEM E RESPONDA:

ANA ESTÁ PROCURANDO OS OVOS QUE SUA MÃE ESCONDEU NO JARDIM.



A) QUANTOS OVOS ELA ENCONTROU?

B) QUANTOS OVOS AINDA ESTÃO ESCONDIDOS?

C) QUANTOS OVOS AO TODO?

D) MARQUE A OPÇÃO QUE REPRESENTA O TOTAL DE OVOS:

