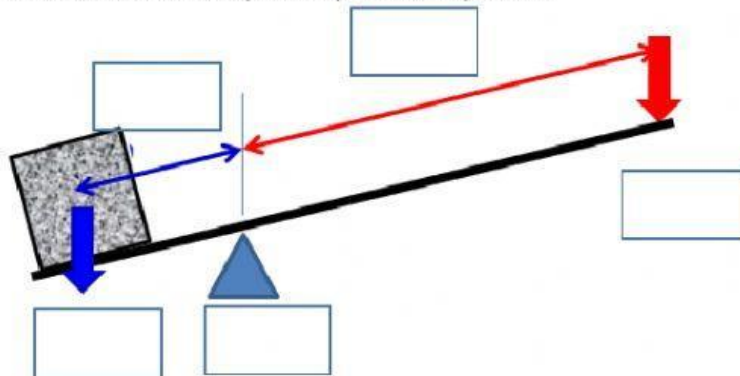


1. Indica qué tipo de palanca corresponde a cada imagen:

2. Indica los elementos que componen una palanca



Bp Br
R P
F

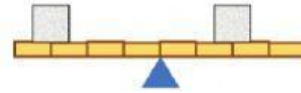
3. Indica de qué grado son los siguientes elementos

4. Indica para cada caso hacia dónde se inclina la balanza, hacia la derecha, la izquierda o si está equilibrada.

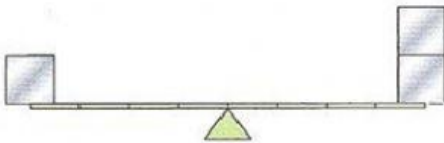
a)



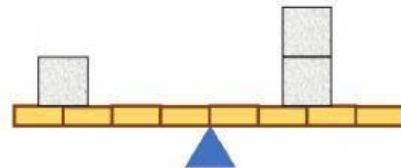
b)



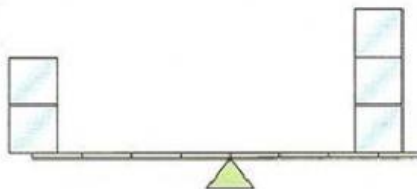
c)



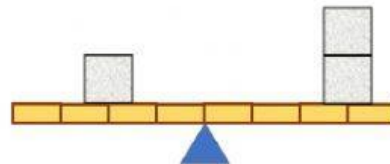
d)



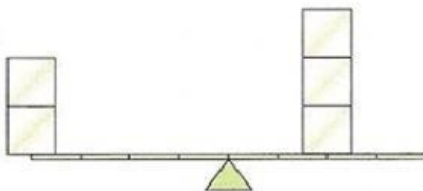
e)



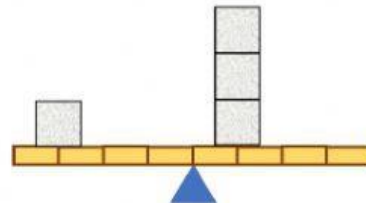
f)



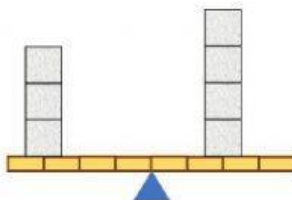
g)



h)



i)



j)

