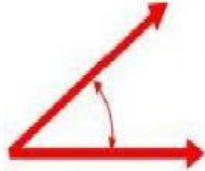


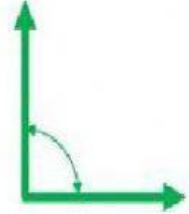
FICHA DE TRABAJO “TIPOS DE ÁNGULOS”




Un **ángulo agudo** mide
entre 0° y menos 90°



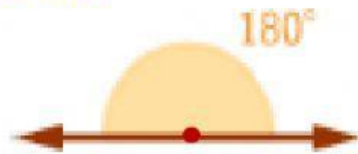
Un **ángulo recto** mide
exactamente 90°



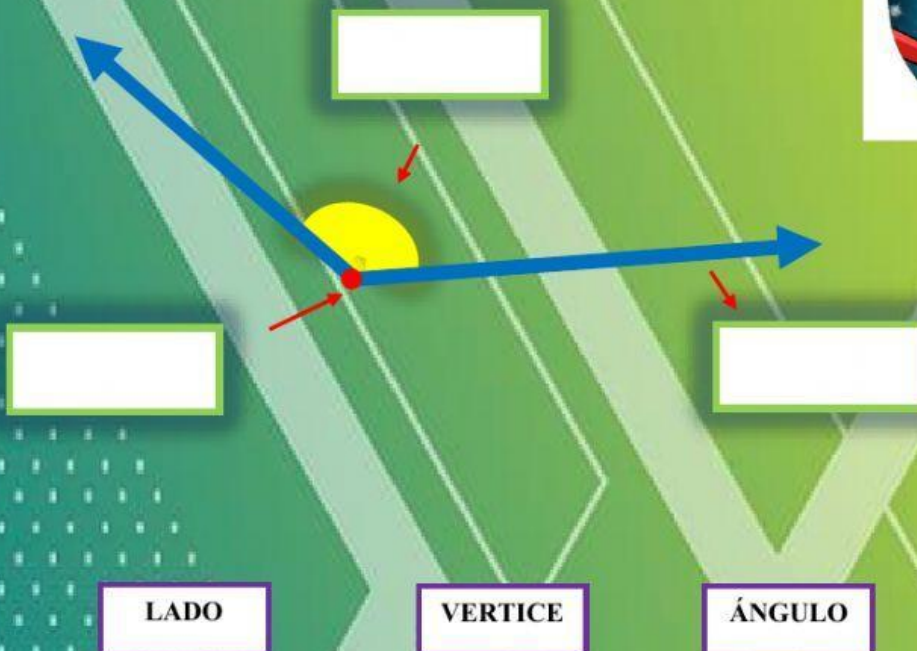
Un **ángulo obtuso**
mide más 90°
y menos de 180°



Un **ángulo llano** mide exactamente 180°



1.- Señala las partes del ángulo.



LADO

VERTICE

ÁNGULO

2.- Clasifica a los ángulos según su medida:

50°



120°



180°



20°



178°



90°



64°



95°



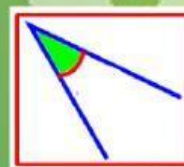
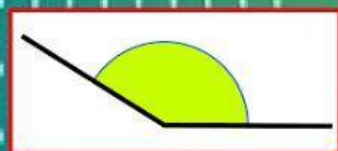
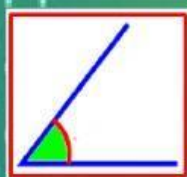
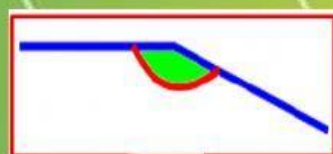
140°



36°



3.- Clasifica los ángulos (agudo, recto y obtuso):



4.- ¿Qué ángulos forman los rayos?



AGUDO



RECTO



OBTUSO

5.- Relaciona según corresponda:

El ángulo mide exactamente 180°



El ángulo mide menos de 90°



El ángulo mide exactamente 90°



El ángulo mide más de 90° y menos de 180°



ÁNGULO OBTUSO

ÁNGULO RECTO

ÁNGULO AGUDO

ÁNGULO LLANO

