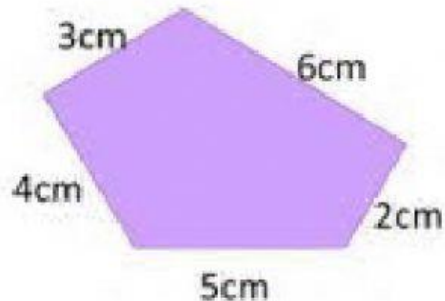


Polígonos: El perímetro

1 *Calcula el perímetro de estos polígonos:*

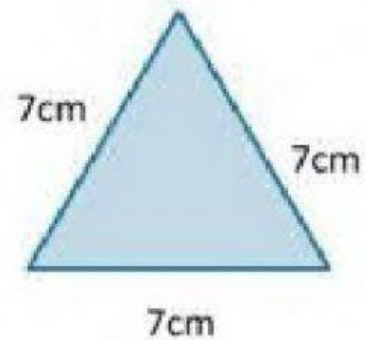


Escribe la operación que necesitas realizar:

Resultado: El perímetro es cm

2 *Escribe la operación que necesitas realizar:*

Resultado: El perímetro es cm








3 *¿Cuál es el perímetro de esta parcela?*



Escribe la operación que necesitas realizar:

Resultado: El perímetro es m

Completa la tabla con atención. Escribe con letras MAYÚSCULAS los nombres .

DIBUJO DEL POLÍGONO	NOMBRE DEL POLÍGONO	Nº DE LADOS	Nº DE VÉRTICES	Nº DE ÁNGULOS
	<input type="text"/>	<input type="text"/>	<input type="text"/>	<input type="text"/>
	<input type="text"/>	<input type="text"/>	<input type="text"/>	<input type="text"/>
	<input type="text"/>	<input type="text"/>	<input type="text"/>	<input type="text"/>
	<input type="text"/>	<input type="text"/>	<input type="text"/>	<input type="text"/>
	<input type="text"/>	<input type="text"/>	<input type="text"/>	<input type="text"/>