



**Matemática divertida**

**Situação-problema  
em forma de poema**



**18 de Abril  
Dia Nacional  
do Livro Infantil**




ATIVIDADE DE MATEMÁTICA 15/04/21

ESCOLA: NILO PINHEIRO CAMPELO

PROFESSORA: TIA LÚCIA

NOME: \_\_\_\_\_

1. LEIA COM ATENÇÃO E DESCUBRA A RESPOSTA



### MEU AQUÁRIO

NO AQUÁRIO QUE COMPREI HÁ 2 PEIXES VERMELHINHOS  
UM LARANJA, QUE É O REI, E MAIS 9 AMARELINHOS AO  
TODO, NADANDO JUNTOS, QUANTOS SÃO OS PEIXINHOS?

10


12

8

14



## 2. LEIA COM ATENÇÃO E DESCUBRA A RESPOSTA



### **BICHARADA MACHUCADA**

O SAPO JOSUÉ TEM 4 FERIDAS NO PÉ. O URSO RODRIGO TEM 1 MACHUCADO NO UMBIGO. O MACACO MANUELÃO TEM 5 CORTES EM CADA MÃO. TODO CORTE, FERIDA OU MACHUCADO COM BANDEIDE PRECISA SER TRATADO. PRA DESSES DOENTES CUIDAR, DE QUANTOS CURATIVOS VAMOS PRECISAR?

10

12

8

15

### 3. LEIA COM ATENÇÃO E DESCUBRA A RESPOSTA



#### **TATUAGEM**

UM PÁSSARO TATUADO NO BRAÇO E NA CANELA, UM DRAGÃO. NAS COSTAS, CÁSSIO TEM UM FOGUETE DE AÇO, ALÉM DE 5 LETRAS CHINESAS QUE ELE TATUOU NA MÃO. VOCÊ JÁ DESCOBRIU QUANTAS TATUAGENS O RAPAZ TEM ATÉ ENTÃO?


10

12

8

15

#### 4. LEIA COM ATENÇÃO E DESCUBRA A RESPOSTA



#### COMIDA DE GATO

O TEO TEM UM GATO QUE SE CHAMA CISSANINHO O MENINO COLOCOU EM SEU PRATO 8 CENOURAS E 1 PEIXINHO. CISSANO COMEU METADE DAS CENOURAS E O PEIXE INTEIRINHO. VOCÊ SABE QUANTO SOBROU EM SEU PRATINHO?

- 4      12      8      15



5. LEIA COM ATENÇÃO E DESCUBRA A RESPOSTA



**QUE LINDO COLAR!**

COM BOTÕES COLORIDOS, OLÍVIA VAI FAZER UM COLAR. 3 VERMELHOS E UM AMARELO ESCOLHEU PRA COMEÇAR.

NA SEQUÊNCIA, UM ROXO E UM ROSA E MAIS UM AMARELO PRA COMPLETAR. AGORA COMEÇA TUDO DE NOVO, NA MESMA SEQUÊNCIA ATÉ ACABAR: MAIS 3 VERMELHOS E UM AMARELO. DEPOIS DE UM BOTÃO ROXO, QUAIS SERÃO OS DOIS PRÓXIMOS A COLOCAR?


ROSA E PRETO

ROSA E AMARELO

AZUL E VERMELHO

BRANCO E PRETO

6. LEIA COM ATENÇÃO E DESCUBRA A RESPOSTA




**A VELHA E O VASO**

O VASO DA DONA IAIÁ TEM 8 ROSAS E UM GIRASSOL. A VELHA ANDA PRA CÁ E PRA LÁ, PROCURANDO UM LUGAR MAIS PERTO DO SOL. O JARDINEIRO TROUXE DO QUINTAL MAIS MEIA DÚZIA DE CRAVOS E UMA DÁLIA AMARELA. AGORA O VASO FICOU O TAL COM QUANTAS FLORES NO TOTAL?

- 4      12      8      16



## 7. LEIA COM ATENÇÃO E DESCUBRA A RESPOSTA



### O PREDINHO

NO PREDINHO DO SEU MIGUEL MORA GENTE PRA DEDÉU. NO PRIMEIRO ANDAR MORAM O LÉO, A LUANA E A CLARA, QUE SÃO IRMÃOS E VIVEM JUNTOS COM O ZECA E A YARA. NO SEGUNDO MORA O JORGE, O VÍTOR E A BERENICE: OS 3 VIERAM DO INTERIOR E VIVEM COM A TIA EUNICE. NO TERCEIRO ANDAR MORA, SOZINHA, A ANINHA. ELA TEM UMA GATA MALHADA QUE SE CHAMA ROSINHA. O QUARTO ANDAR ESTÁ VAGO, PRA TRISTEZA DO SEU MIGUEL... SE NÃO VENDER LOGO, LOGO, VAI EMPRESTAR PRA PRIMA MARTA, QUE MORA DE ALUGUEL. VOCÊ JÁ DESCOBRIU QUANTAS PESSOAS MORAM HOJE NO PRÉDIO DO SEU MIGUEL?

10


12

8

16



## 8. LEIA COM ATENÇÃO E DESCUBRA A RESPOSTA



### JOGANDO DADOS

NA TRILHA DO TABULEIRO, TODO MUNDO QUER CHEGAR PRIMEIRO. A DANI JOGOU OS 2 DADOS DE UMA VEZ, SORTEOU DOIS E SEIS. A PAOLA JOGOU UM DADO E TIROU 3, NO OUTRO TAMBÉM SORTEOU SEIS. POR ÚLTIMO, FOI A VEZ DA IVETE, A SOMA DE SEUS DOIS DADOS FOI SETE. SE AS 3 CRIANÇAS ESTAVAM ANTES NA “PARTIDA”, QUEM SERÁ AGORA QUE ESTÁ NA FRENTE NESSA CORRIDA?

DANI

PAOLA

IVETE