


¿Cómo se pueden representar los números?  
con el material multibase.



1 000



100



10



1

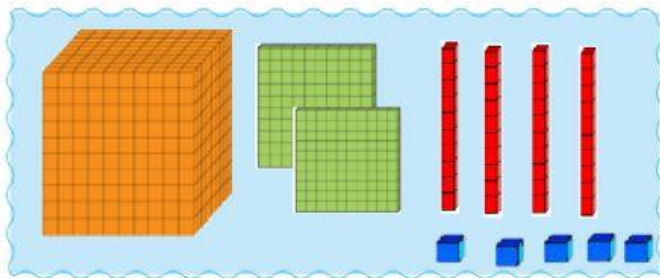
**Decena**

**Unidades**

**Millar**

**Centena**

Completa: Como notación desarrollada



→ \_\_\_\_\_ + \_\_\_\_\_ + \_\_\_\_\_ + \_\_\_\_\_

Se lee: \_\_\_\_\_


Um	C	D	U

	Um	C	D	U	En cifras	Notación desarrollada	En palabras
	2	3	9	1	2391		Dos mil trescientos noventa y uno
					7250		
						$3000 + 800 + 20 + 2$	Tres mil ochocientos veintidós

Relaciona cada camiseta con un pantalón, ambos deben tener el mismo número escrito



Con las cifras del número de placa de cada auto, escribe el mayor y el menor número posible.

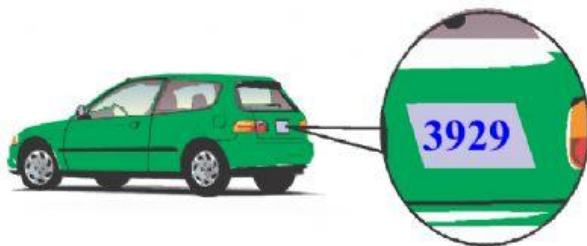


Número mayor

**7935**

Número menor

**7932**



Número mayor

**3930**

Número menor

**3928**