



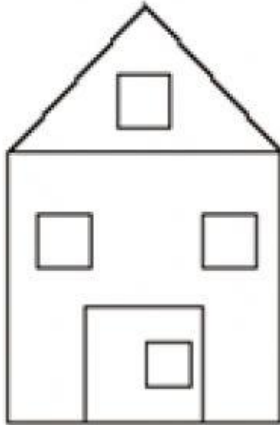
COLEGIO DE CIENCIAS ISAAC NEWTON

PASAJE SAGITARIO N° 298 – URBANIZACIÓN MERCURIO – LOS OLIVOS – TELÉFONO 5216724

EXÁMEN MENSUAL DE RAZONAMIENTO MATEMÁTICO

- Cuenta el total de las figuras presentadas y marca la opción correcta:

1. ¿Cuántos cuadrados hay en la imagen?




4
cuadrados

5
cuadrados

6
cuadrados

2. ¿Cuántos rectángulos hay en la imagen?

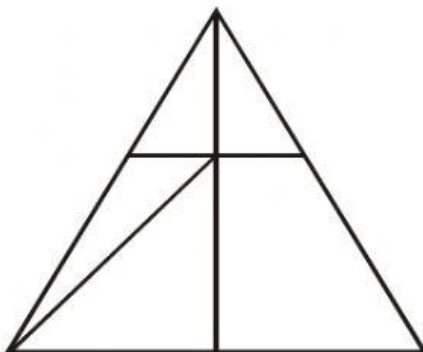


4
rectángulos

5
rectángulos

6
rectángulos

3. ¿Cuántos triángulos hay en la imagen?

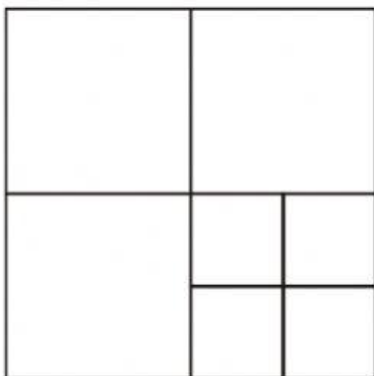


9
triángulos

7
triángulos

5
triángulos

4. ¿Cuántos cuadrados hay en la imagen?



6

cuadrados

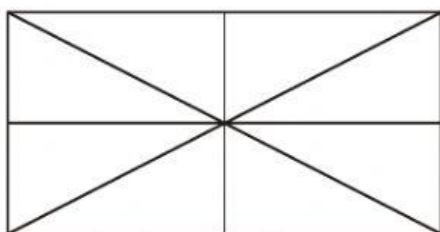
9

cuadrados

12

cuadrados

5. ¿Cuántos triángulos hay en la imagen?



16

triángulos

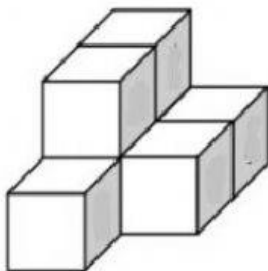
12

triángulos

14

triángulos

6. ¿Cuántos cubos hay en la imagen?



4 cubos

5 cubos

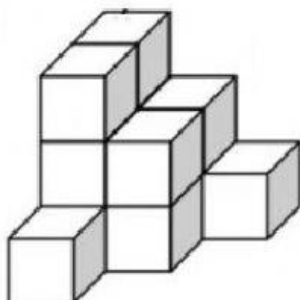
7 cubos



9 cubos

18 cubos

22 cubos



8 cubos

10 cubos

12 cubos