

NOMBRE: _____ GRADO: _____ FECHA: _____

I PARTE: COMPLETA SEGÚN CORRESPONDA.

1 CENTENA= _____ UNIDADES

1 CENTENA= _____ DECENAS

100 UNIDADES= _____ CENTENA

10 DECENAS = _____ CENTENA

II PARTE: LAS CENTENAS. COLOCA CADA CENTENA EN EL ESPACIO QUE LE CORRESPONDE SEGÚN SU NOMBRE.



cien

cuatrocientos

trescientos

doscientos

ochocientos

novecientos

setecientos

seiscientos

quinientos

III PARTE: ESCRIBE CUANTAS CENTENAS TIENE CADA NÚMERO.

400= _____ C

100= _____ C

800= _____ C

700= _____ C

200= _____ C

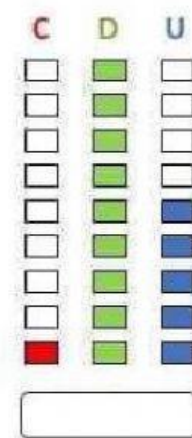
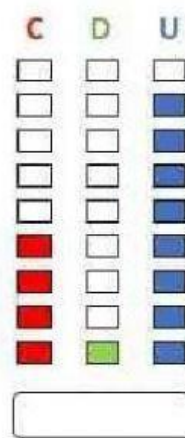
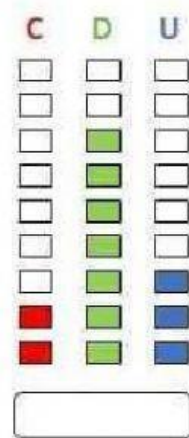
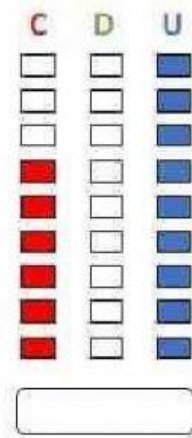
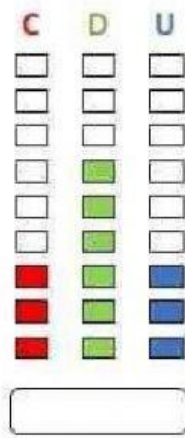
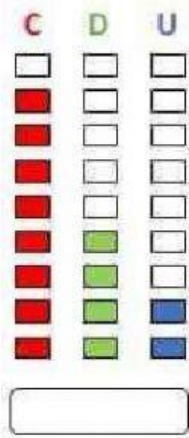
300= _____ C

500= _____ C

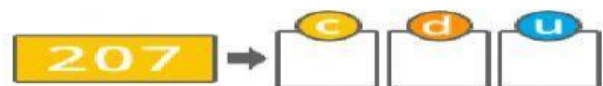
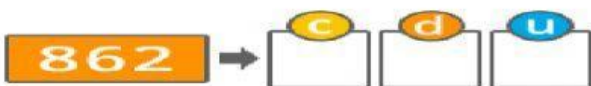
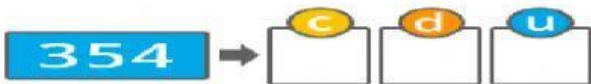
900= _____ C

600= _____ C

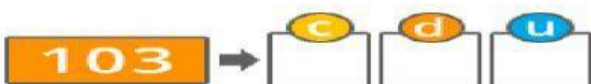
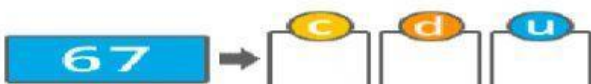
IV PARTE: ESCRIBE LA CIFRA QUE REPRESENTA SEGÚN LAS CENTENAS – DECENAS – UNIDADES.



V PARTE: RELLENA LOS SIGUIENTES CUADROS CON LA UNIDAD, DECENA Y CENTENA.



www.fichasdematematicas.com



VI PARTE: COMPLETA EL CUADRO CON LOS NÚMEROS QUE FALTAN.

101	102	103	104				108	109	110
		113	114	115	116	117		119	120
121	122			125		127		129	
131	132	133	134	135	136	137		139	140
		143			146	147	148	149	150
151	152	153			156	157	158	159	
161		163	164	165	166				170
		173	174		176	177	178	179	
181		183		185	186		188	189	190
191	192		194	195		197	198	199	