

ESCOLA: _____


NOME: _____

SÉRIE/TURMA: _____

AGRUPANDO EM DEZENAS PARA CONTAR

CONTE AS OVELHAS. PARA FACILITAR A CONTAGEM ARRASTE-AS FORMANDO DEZENAS. SIGA O EXEMPLO.

DEZENAS




UNIDADES



1 DEZENA E 1 UNIDADE = 11


$10 + 1 = 11$

ONZE




DEZENAS

UNIDADES



_____ DEZENA E _____ UNIDADE = _____

_____ + _____ = _____




DEZENAS

UNIDADES

--

_____ DEZENA E _____ UNIDADE = _____

_____ + _____ = _____




DEZENAS

UNIDADES

--

_____ DEZENA E _____ UNIDADE = _____

_____ + _____ = _____




DEZENAS

UNIDADES

--

_____ DEZENA E _____ UNIDADE = _____

_____ + _____ = _____




DEZENAS

UNIDADES

--

_____ DEZENA E _____ UNIDADE = _____

_____ + _____ = _____




DEZENAS

UNIDADES

--

_____ DEZENA E _____ UNIDADE = _____

_____ + _____ = _____



DEZENAS

UNIDADES

--

_____ DEZENA E _____ UNIDADE = _____

_____ + _____ = _____



DEZENAS

UNIDADES

--

_____ DEZENA E _____ UNIDADE = _____

_____ + _____ = _____

COMPLETE O QUADRO DE NÚMEROS DE 0 A 19.

0				

RESPONDA.

UMA DEZENA É FORMADA POR _____ UNIDADES.