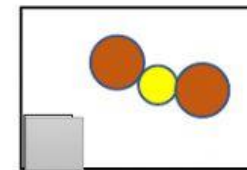
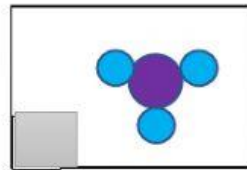
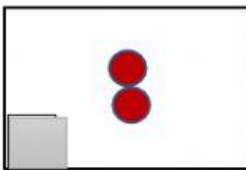

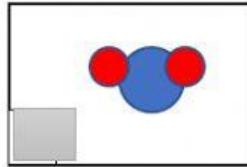
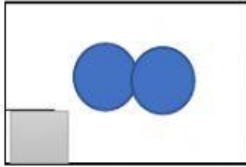


Unidad 6.3 La materia

Tema: Moléculas y compuestos

Identificar moléculas y compuestos.

1- Identifica las moléculas diatómicas (M) y los compuestos. (C)



2- ¿Cuáles de estos enunciados sobre las moléculas y los compuestos son verdaderos?
Escoge si es falso (F) o cierto (C) el enunciado.

☐ Las moléculas están formadas por un átomo y los compuestos están formados por dos o más átomos.

☐ Tanto las moléculas como los compuestos son sustancias puras.

☐ Las partículas que forman los compuestos son moléculas.

☐ El cloruro de hidrógeno es tanto una molécula como un compuesto.