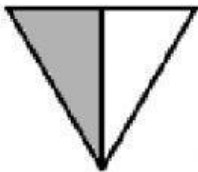
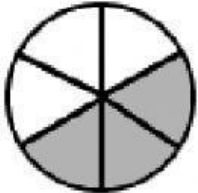

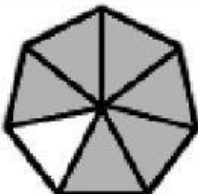


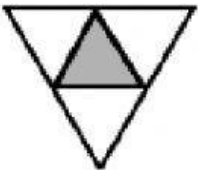

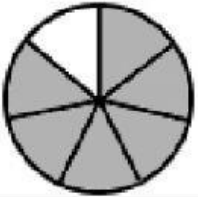
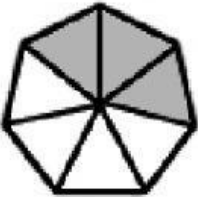
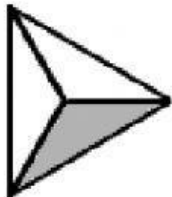
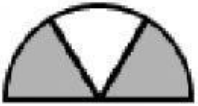



LAS FRACCIONES

6º PRIMARIA

1. ESCRIBE LA FRACCIÓN QUE CORRESPONDE A CADA DIBUJO

DIBUJO	FRACCIÓN
	<div></div>
	<div></div>
	<div></div>
	<div></div>
	<div></div>
	<div></div>

	<div></div>
	<div></div>
	<div></div>
	<div></div>
	<div></div>
	<div></div>
	<div></div>

2. ARRASTRA LAS PALABRAS CORRECTAS PARA CREAR LAS DEFINICIONES:

FRACCIONES _____	FRACCIONES _____
SON LAS FRACCIONES QUE TIENEN EL _____ MENOR QUE EL _____	SON LAS FRACCIONES QUE TIENEN EL _____ MAYOR QUE EL _____
EJEMPLO: $\frac{4}{9}$	EJEMPLO: $\frac{8}{3}$
IMPROPIAS	NUMERADOR
NUMERADOR	DENOMINADOR
DENOMINADOR	PROPIAS

3. ELIGE SI LAS FRACCIONES SIGUIENTES SON PROPIAS O IMPROPIAS Y ESCRIBE COMO SE LEEN:

* $\frac{12}{5}$

* $\frac{7}{8}$

* $\frac{3}{15}$

* $\frac{6}{2}$

* $\frac{8}{11}$

* $\frac{2}{3}$

* $\frac{20}{10}$