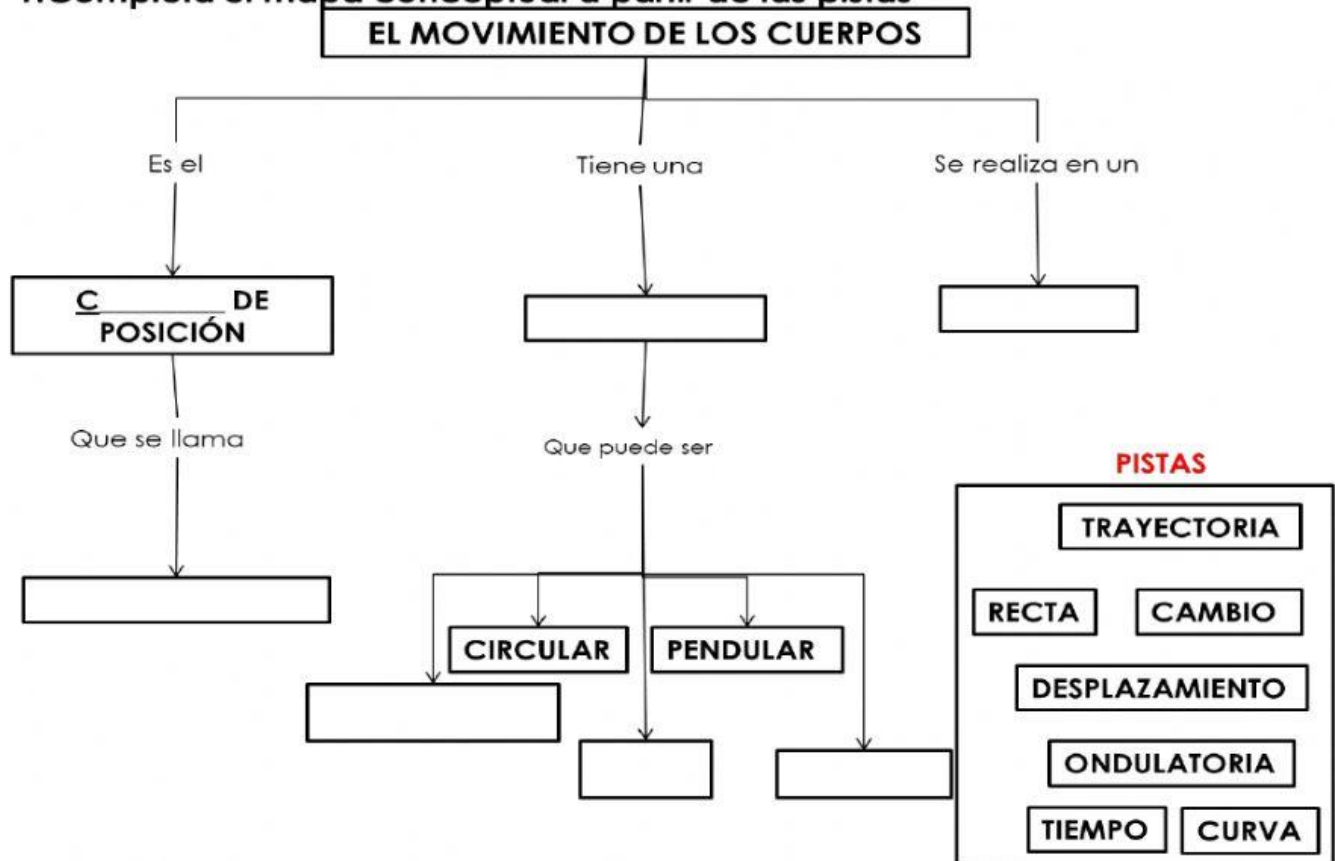


## Trasferencia – Tarea Semana 11:

1. Completa el mapa conceptual a partir de las pistas



2. Completa la información del móvil como en el ejemplo.



**Ejemplo:**

Móvil: automóvil

Objetos que representan el sistema de referencia del móvil: carretera, árboles, montañas.



Móvil: \_\_\_\_\_

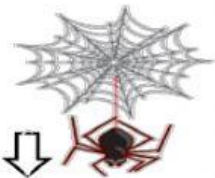
Objetos que representan el sistema de referencia del móvil: \_\_\_\_\_

3. Indica la la trayectoria de los móviles y señala los sistemas de referencia de cada uno.

recta

curva

circular



4. Anota el tipo de trayectoria de cada móvil. Utiliza las palabras del recuadro.

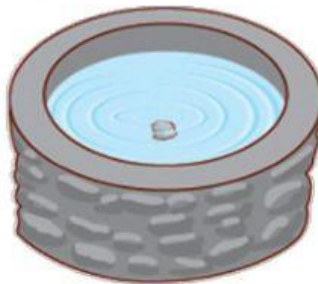

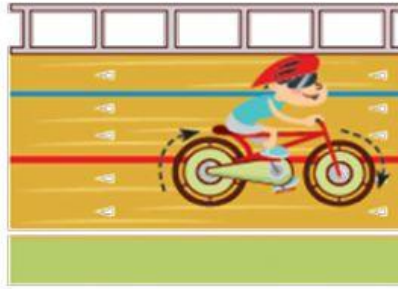
recta

curva

circular

pendular

ondulatoria



5. Anota P a los movimientos periódicos y NP a los no periódicos.

\_\_\_\_\_ El movimiento que la Tierra realiza sobre su propio eje (rotación).

\_\_\_\_\_ El movimiento que realiza la Luna alrededor de la Tierra.

\_\_\_\_\_ El movimiento que un ave hace de su nido a la rama de un árbol.

\_\_\_\_\_ El movimiento de un depredador cuando caza a su presa.

\_\_\_\_\_ El movimiento de la banda de una máquina de tortillas funcionando.

\_\_\_\_\_ El movimiento del péndulo de un reloj.