
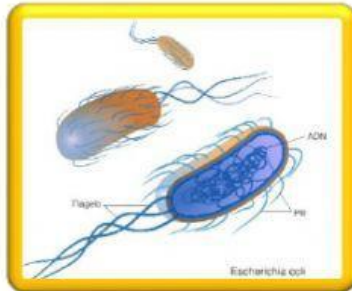
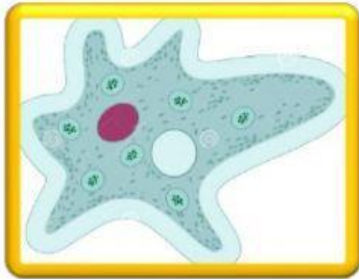


CIENCIAS NATURALES

GRADO 3

Docente: Marcela García

1. Clasifique los siguientes organismos como según su reino. En los espacios arrastre el reino y especie que se encuentra debajo de las imágenes.



MÓNERA
Escherichia coli

FUNGÍ
Moho

PROTISTA
Ameba

FUNGÍ
Champiñones

MONERA
Lactobacilos

Paramecio
PROTISTA