

PROFESSOR (A): CILENE CORREIA

TURMA: 3º ANO

ALUNO (A):

DATA: 13/04/2021





PROVA DE MATEMÁTICA / VALOR:10 / NOTA: _____

UNIDADE I

INSTRUÇÕES:

- Leia as questões com atenção.
- Não deixe questão sem resposta.
- Marque apenas uma resposta por questão.
- Responda as questões com um lápis. Evite apagar a resposta mais de uma vez.
- **Somente as questões 9 e 10 são abertas, ou seja, você terá que escrever as respostas.**

1- Observe as figuras geométricas e marque um X no nome correto de cada uma delas.

				
<input type="checkbox"/> CÍRCULO	<input type="checkbox"/> CÍRCULO	<input type="checkbox"/> CÍRCULO	<input type="checkbox"/> CÍRCULO	
<input type="checkbox"/> RETÂNGULO	<input type="checkbox"/> RETÂNGULO	<input type="checkbox"/> RETÂNGULO	<input type="checkbox"/> RETÂNGULO	
<input type="checkbox"/> QUADRADO	<input type="checkbox"/> QUADRADO	<input type="checkbox"/> QUADRADO	<input type="checkbox"/> QUADRADO	
<input type="checkbox"/> TRIÂNGULO	<input type="checkbox"/> TRIÂNGULO	<input type="checkbox"/> TRIÂNGULO	<input type="checkbox"/> TRIÂNGULO	

2- Relacione as imagens das figuras geométricas espaciais aos seus nomes.



() ESFERA



() CILINDRO




() PARALELEPÍPEDO



(A) 4

() CUBO

(B) 5




(C) 6

() PIRÂMIDE

(D) 7

3- Quantas triângulos aparecem no desenho?



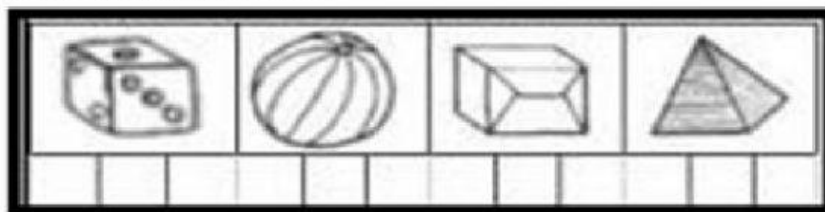
a) () 4

b) () 5

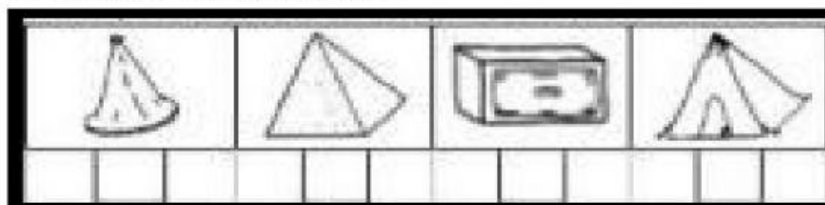
c) () 6

d) () 7

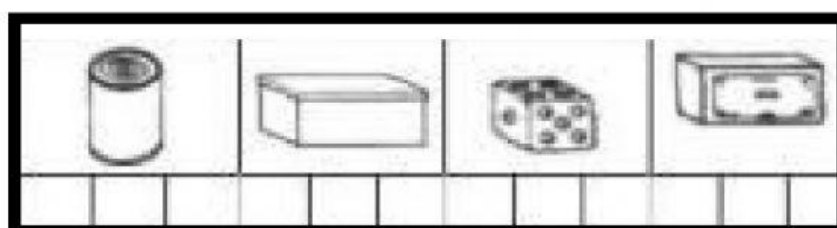
4- Qual imagem representa um cubo?




5- Quais imagens lembram uma pirâmide?



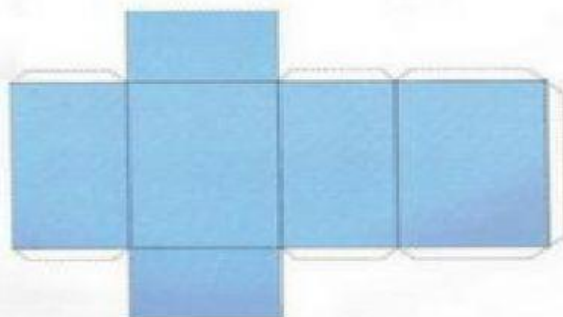
6- Marque um X nas imagens que lembram um paralelepípedo.



7- Faça um X nos objetos que lembram figuras geométricas espaciais que dependendo da posição podem rolar.

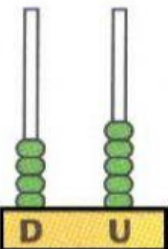


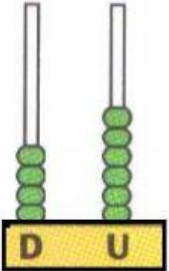
8- A figura geométrica espacial representada no molde abaixo é:

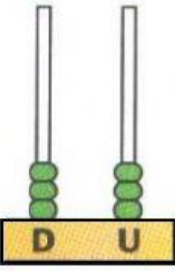


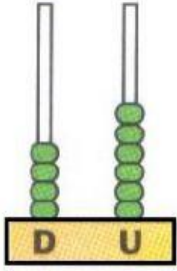
- a) () um paralelepípedo, tem 6 faces, 12 arestas e 18 vértices.
 b) () um paralelepípedo, tem 6 faces, 14 arestas e 10 vértices.
 c) () é um paralelepípedo, tem 16 faces, 12 arestas e 12 vértices.
 d) () é um paralelepípedo, tem 6 faces, 12 arestas e 8 vértices.

9- Observe os ábacos abaixo, arme e efetue para obter o resultado de cada um.

a) 

c) 

b) 

d) 

10- Leia as pistas e descubra que número Laura representou no ábaco.

Pistas

- Ela colocou três bolinhas no pino das unidades.
- Ela colocou três bolinhas a mais que o pino anterior no pino das dezenas.

- Laura representou no ábaco _____.

BOA PROVA!

JESUS VIVE !!!

