









Operaciones combinadas



1. Resuelve las siguientes operaciones combinadas:



a) $15 - 5 + 45$

_____  _____ = _____



b) $85 + 5 - 5$

_____  _____ = _____



c) $26 + 4 - 5$

_____  _____ = _____

d) $99 - 29 + 18$

_____  _____ = _____

e) $60 + 15 - 10$

_____  _____ = _____

f) $50 + 25 - 5$

_____  _____ = _____

g) $89 - 9 + 20$

_____  _____ = _____

h) $30 + 60 - 50$

_____  _____ = _____