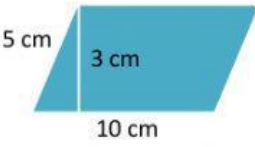


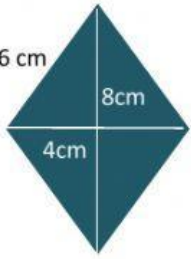

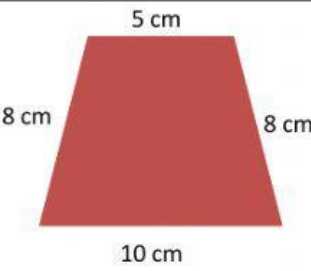
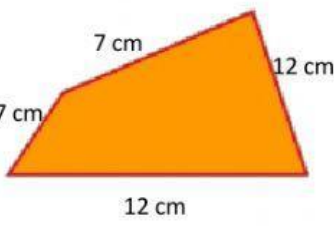
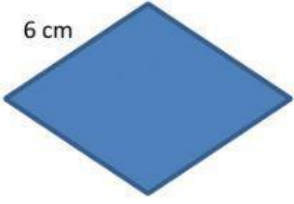




Contesta el perímetro y el área de los cuadriláteros, añade "**cm**" (Ej. **15 cm**).  
 Y escribe que tipo es la figura, si es: "**Paralelogramo, trapecio o trapecioide**"

PERIMETRO Y ÁREA DE CUADRILATEROS		
 <p>P=</p> <p>A=</p> <p>Tipo:</p>	 <p>P=</p> <p>A=</p> <p>Tipo:</p>	 <p>P=</p> <p>A=</p> <p>Tipo:</p>
 <p>P=</p> <p>A=</p> <p>Tipo:</p>	<p>Contesta con V o F lo siguiente:</p> <p>¿Los cuadriláteros son figuras de 4 lados?</p> <p>(    )</p>	 <p>P=</p> <p>A=</p> <p>Tipo:</p>
 <p>P=</p> <p>Tipo:</p>	 <p>P=</p> <p>Tipo:</p>	 <p>P=</p> <p>Tipo:</p>

**Perímetro:** es la suma de todos los lados.

**Área:** mide el espacio dentro de la figura (el largo y su ancho).

