


# LÍNEAS, RECTAS, SEMIRRECTAS Y SEGMENTOS

Escribe como son entre sí las siguiente líneas rectas

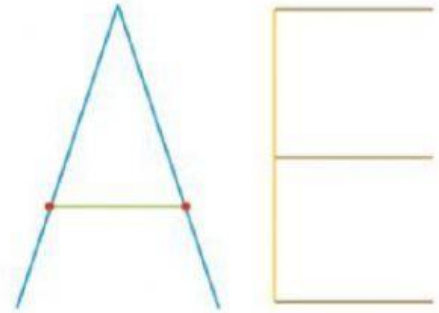


a. Naranja y verde : .....

b. Naranja y marrón : .....

c. Verde y marrón : .....

Observa estas vocales y completa



a. Las líneas azules son .....

b. Las líneas marrones son ..... entre sí

c. La línea amarilla es ..... a las líneas marrones

d. La línea comprendida entre los dos puntos rojos se llama .....

¿Son ciertas estas afirmaciones? Corrige las que no lo son

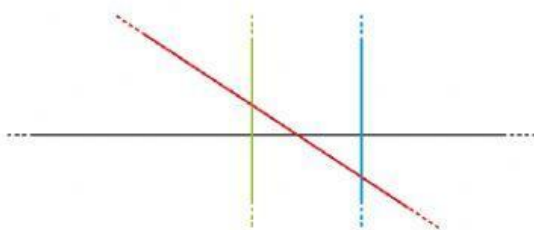
a. En un cruce, los caminos son paralelos ☒ ☐ .....

b. Las calles de una piscina son secantes ☒ ☐ .....

c. Tres rectas secantes solo se cortan en un punto ☒ ☐ .....

d. Cinco rectas paralelas pueden formar un pentágono ☒ ☐ .....

Completa las frases con las palabras: paralelas, secantes y semirecta



a. Las rectas verde y azul son .....

b. Las rectas roja y negra son .....

c. La recta verde divide a la recta negra en dos .....

d. La parte de recta roja entre la recta verde y la recta azul es un .....

