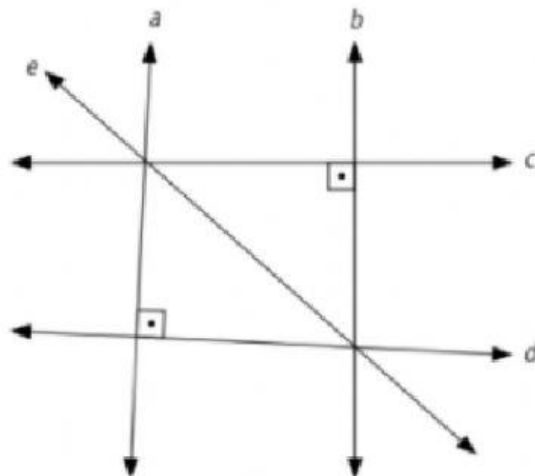


Nome:

6A

Retas - Atividade 2

1) Classifique cada par de retas em paralelas, concorrentes ou perpendiculares.



a) a e b

b) a e c

c) b e e

d) c e d

e) b e d

2) Na figura abaixo vemos parte da planta de um bairro. Classifique cada par de ruas como se fossem retas paralelas, concorrentes ou perpendiculares.



a) Rua do Bosque e Rua das Árvores

b) Rua das Árvores e Rua das Pedras

c) Rua do Bosque e Rua dos Animais

d) Rua dos Animais e Rua das Árvores

e) Rua das Pedras e Rua dos Lagos

3) O esquema a seguir representa o bairro de uma cidade. Considere o prolongamento das ruas como se fosse retas e assinale V ou F em cada sentença abaixo.



a) () As Ruas Brasil e Argentina são paralelas


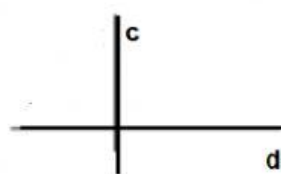
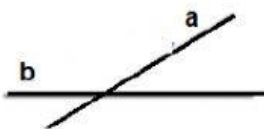
b) () As Ruas Portugal e Alemanha são paralelas

c) () As Ruas México e França são perpendiculares

d) () As Ruas Chile e Itália são concorrentes

e) () As Ruas Nigéria e França são perpendiculares

4) Qual a posição entre as retas em cada caso abaixo:



a e b são

e e f são

c e d são

g e h são