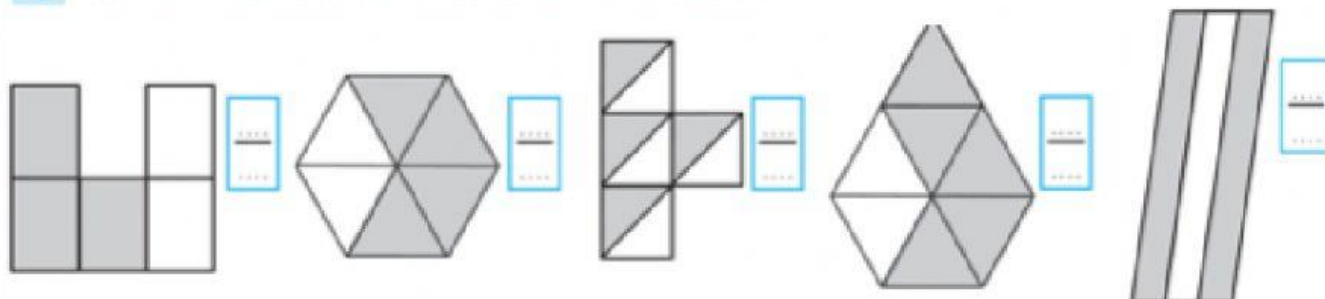


# FRAZIONI E NUMERI DECIMALI



1 SCRIVI LA FRAZIONE CORRISPONDENTE ALLA PARTE COLORATA



2 TRASFORMA LE FRAZIONI IN NUMERI DECIMALI, POI FAI LA SCOMPOSIZIONE COME NELL'ESEMPIO

$\frac{7}{10}$	→	0,7	→	0 u, 7 d
$\frac{149}{100}$	→	.....	→	.....
$\frac{543}{1000}$	→	.....	→	.....
$\frac{33}{1000}$	→	.....	→	.....

3 TRASFORMA I NUMERI DECIMALI IN FRAZIONI, PO COMPLETA LA RAFFIGURAZIONE CORRISPONDENTE

0,5 = .....       0,9 = .....       1,3 = .....       1,9 = ..... 

4 QUANTO RICEVO DI RESTO SE PAGO CON UNA MONETA DA 1 EURO?

PREZZO	RESTO	PREZZO	RESTO
0,50 €	.....	0,37 €	.....
0,70 €	.....	0,49 €	.....
1 €	.....	0,88 €	.....
0,65 €	.....	0,60 €	.....
0,90 €	.....	0,07 €	.....