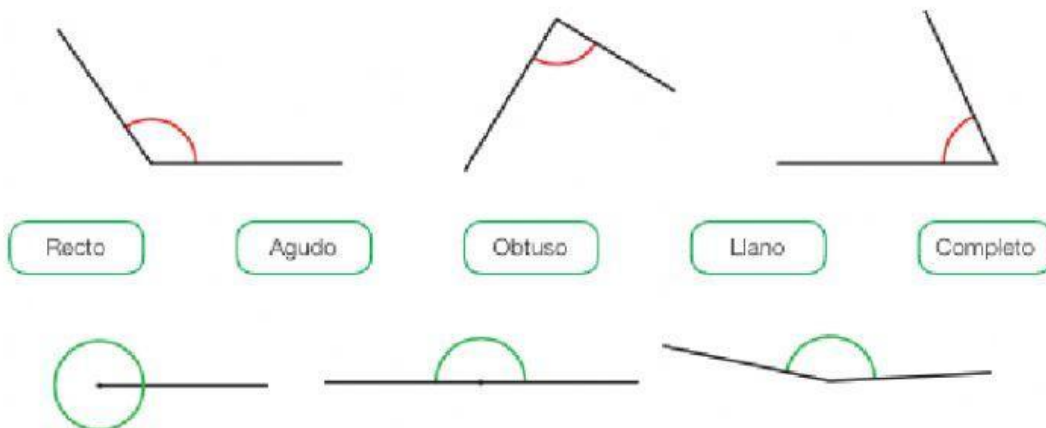



Clasificación de ángulos

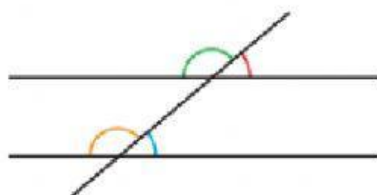
1 Utiliza el transportador y escribe la medida de cada ángulo. Después, relaciona.



2 Mide con el transportador los ángulos y clasifícalos.



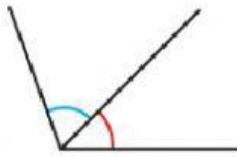
4 Mide cada ángulo y contesta.



- ¿De qué tipo es el ángulo rojo? ¿Y el azul?
- ¿De qué tipo es el ángulo verde? ¿Y el naranja?

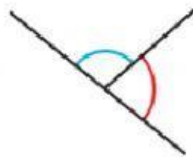
Tipos de ángulos

- 1 Clasifica estos ángulos en consecutivos, adyacentes u opuestos por el vértice. Después, mide cada ángulo con un transportador.



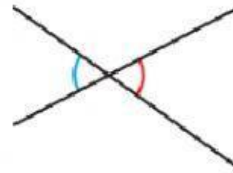
► mide _____

► mide _____



► mide _____

► mide _____



► mide _____

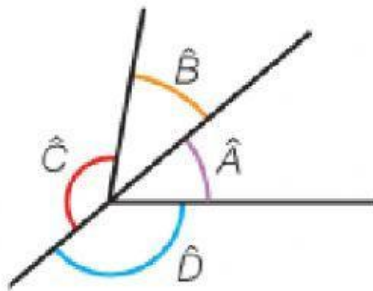
► mide _____



► mide _____

► mide _____

Observa la figura y escribe cómo son los ángulos que se indican.



- Los ángulos \hat{A} y \hat{B} ►
- Los ángulos \hat{B} y \hat{C} ►
- Los ángulos \hat{C} y \hat{D} ►
- Los ángulos \hat{D} y \hat{A} ►