










FUERZAS MILITARES DE COLOMBIA
FUERZA AÉREA
GIMNASIOS MILITARES FAC



**ÁREA DE TECNOLOGÍA E INFORMÁTICA
GRADO TERCERO
ACTIVIDAD FINAL**

1. Relaciona las imágenes con las funciones correspondientes

		Permite insertar texto.
		Permite grabar un sonido y guardarlo en el proyecto.
		Permite guardar el proyecto
		Permite parar la reproducción de las animaciones.
		Permite abrir un proyecto ya creado
		Permite crear botones para reproducir instrucciones.
		Permite insertar la tortuga y darle instrucciones para realizar animaciones.

2. Explica la función de los siguientes comandos:

CP:

AD:

DE:

IZ:

FCOLOR:

3. Diga cuál de las siguientes instrucciones permite dibujar una escalera naranja de dos escalones con la tortuga de Micromundos.

a.

```
para escalera
cp
fcolor 25
ad 30
de 90
ad 30
iz 90
ad 30
de 90
ad 30
iz 90
ad 60
de 90
ad 60
de 90
fin
```

b.

```
para escalera
cp
fcolor 25
ad 30
de 90
ad 30
iz 90
ad 30
de 90
ad 30
de 90
ad 30
de 90
ad 60
de 90
ad 60
de 90
fin
```

c.

```
para escalera
cp
fcolor 15
ad 30
de 90
ad 30
iz 90
ad 30
de 90
ad 30
iz 90
ad 60
de 90
ad 60
de 90
fin
```

d.

```
para escalera
cp
fcolor 35
ad 30
de 90
ad 30
iz 90
ad 30
de 90
ad 30
de 90
ad 60
de 90
ad 60
de 90
fin
```