




Gimnasio Rincón De Los Ángeles
Evaluaciones Bimestrales
Primer Periodo
Segundo
2021

Nombre: _____ Fecha: _____

Área: Geometría

1. Enumera según sea tu secuencia en el día


☐
☐
☐
☐

2. Lee la información y completa las tablas de frecuencia

Se pregunto a algunos alumnos estudiantes ¿Cuántos minutos diarios dedican a la lectura? Las respuestas fueron:









15	15	30	45	30	45	45	15	30	60
45	60	30	15	45	30	45	30	45	30
60	15	15	30	15	30	15	30	15	30

Numero de minutos	conteo	Numero de estudiantes
15		
30		
45		
60		
	total	


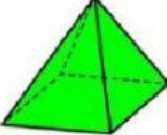
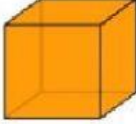


Gimnasio Rincón De Los Ángeles
Evaluaciones Bimestrales
Primer Periodo
Segundo
2021

3. Que forma tiene cada objeto

			
<input style="width: 100%;" type="text"/>	<input style="width: 100%;" type="text"/>	<input style="width: 100%;" type="text"/>	<input style="width: 100%;" type="text"/>
			
<input style="width: 100%;" type="text"/>	<input style="width: 100%;" type="text"/>	<input style="width: 100%;" type="text"/>	<input style="width: 100%;" type="text"/>

4. Completa el cuadro con la información solicitada en cada casa

Cuerpo	Nombre	Numero de caras	Números de vértices	Numero de aristas
				
				
				



Gimnasio Rincón De Los Ángeles
Evaluaciones Bimestrales
Primer Periodo
Segundo
2021

5. Contar los cubos que hay en cada cuerpo

