

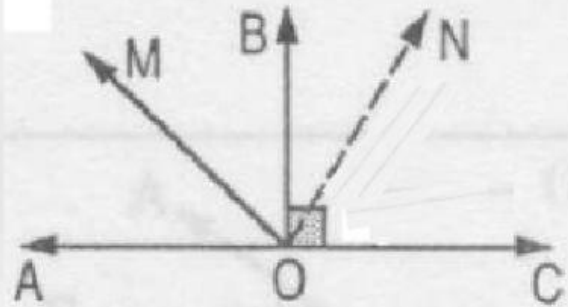
ÁNGULOS

NOMBRE:

RESUELVE LOS SIGUIENTES EJERCICIOS Y DA LA RESPUESTA CORRESPONDIENTE.

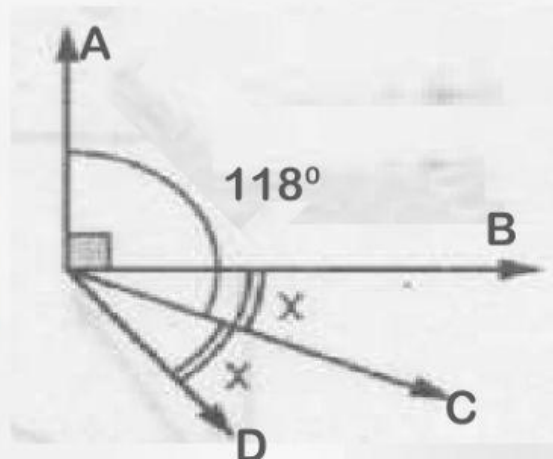
- 1.- Hallar la medida del ángulo NOB si ON es bisectriz de MOC y $MOB = 50^\circ$

RESPUESTA:



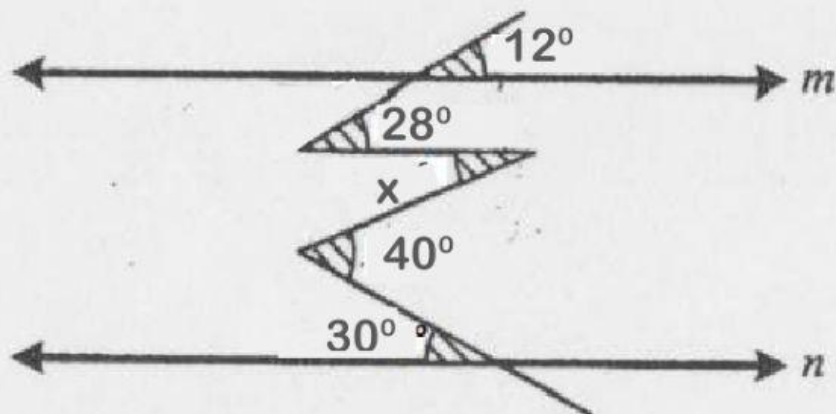
- 2.- Hallar la medida del ángulo AOD si OC es bisectriz de BOD

RESPUESTA:



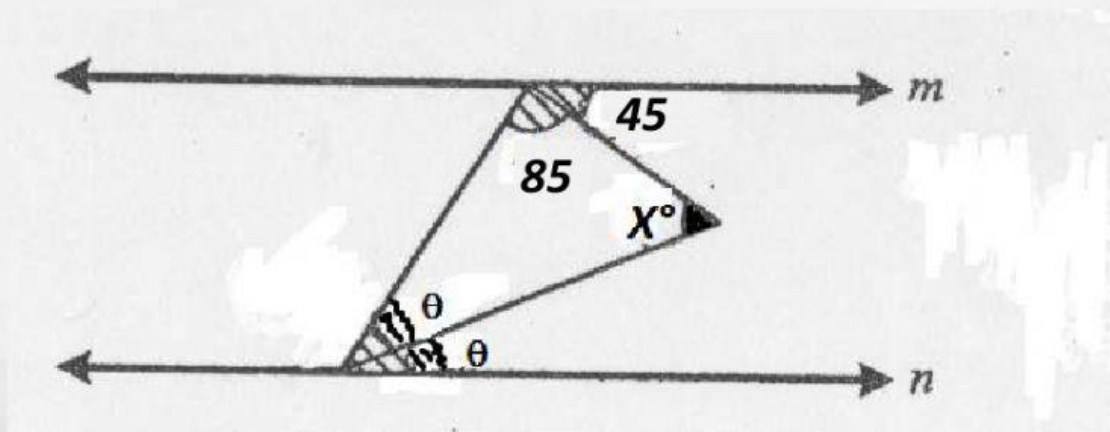
- 3.- Hallar el valor de x

En la figura, $\vec{m} \parallel \vec{n}$, calcule "x".



RESPUESTA:

4.- Hallar la medida del ángulo x si $m \parallel n$



RESPUESTA:

5.- Los ángulos a y b están en relación de 5 a 7. Si el complemento del doble de a excede en 39° a b . Hallar el ángulo b .

RESPUESTA:

