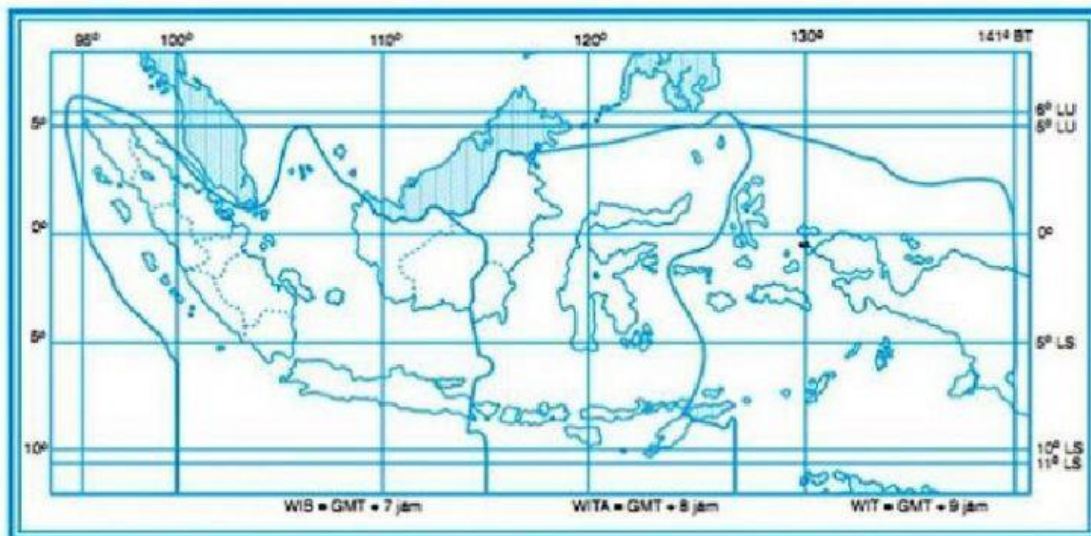


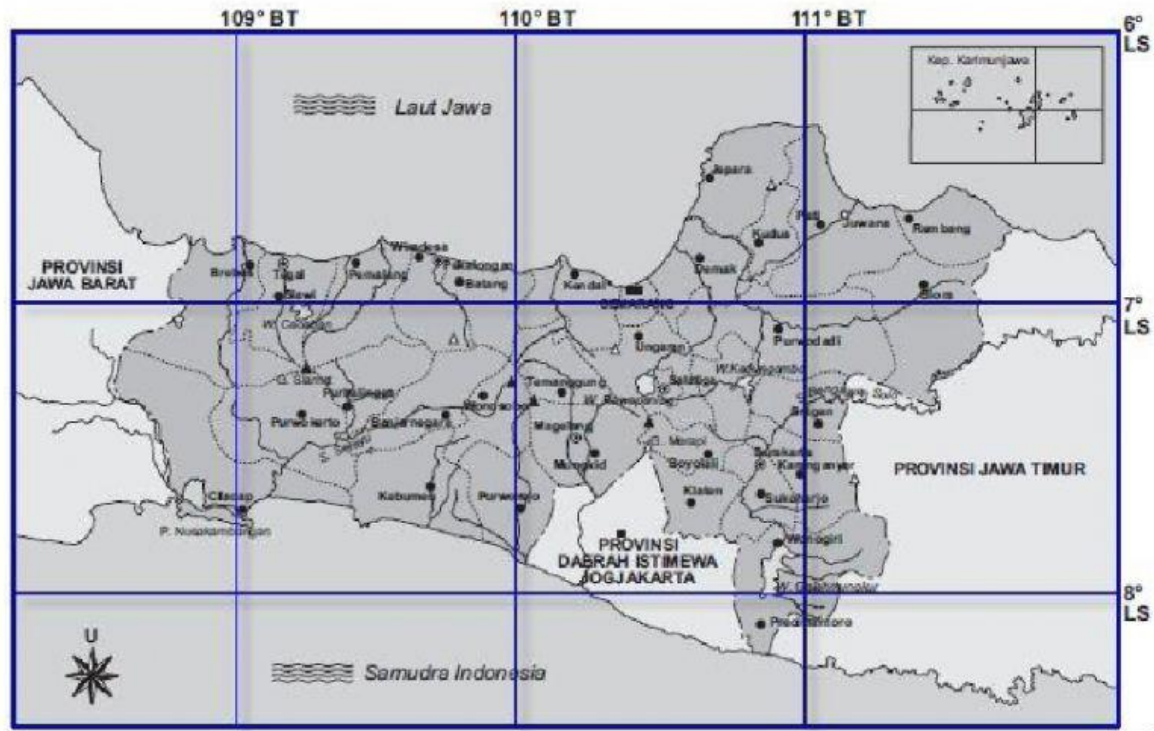
RANGKUMAN MATERI IPS TEMA 9 SUBTEMA 1 KELAS 5

1. Secara geografis Indonesia terletak di antara 2 samudera yaitu samudera Pasifik dan samudera Hindia serta terletak di antara 2 benua yaitu benua Asia dan Australia. Secara astronomi Negara Indonesia membentang antara 6°LU - 11°LS dan 95°BT dan 141°BT , yaitu dari Sabang sampai Marauke.
2. Kepulauan Indonesia



3. Letak kota atau tempat pada peta dinyatakan dengan garis bujur dan garis lintang. Jarak dua garis bujur berdekatan sebesar satu derajat (1°). Jarak dua garis lintang berdekatan sebesar satu derajat (1°). Garis bujur terbagi dua, yaitu bujur barat (BB) dan bujur timur (BT). Garis lintang juga terbagi dua, yaitu lintang utara (LU) dan lintang selatan (LS).

4. Perhatikan peta Jawa Tengah di bawah ini!



Provinsi Jawa Tengah beribu kota di Semarang. Letak geografis kota Semarang sekitar 110° BT dan 7° LS. Tunjukkan letak Semarang pada gambar peta di atas.

5. Kenampakan alam/bentang alam adalah berbagai bentuk muka bumi yang terjadi secara alamiah. Ketampakan alam terdiri atas dua bagian pokok, yaitu ketampakan alam berupa perairan dan ketampakan alam yang berupa daratan.

a. Kenampakan alam wilayah daratan


gunung, pegunungan, bukit, dataran tinggi, dataran rendah, pantai, tanjung, dan delta

b. Kenampakan alam wilayah perairan

laut, selat, teluk, sungai, danau, rawa

6. **Manusia** hidup beradaptasi sesuai dengan alam dan ketampakan alam di lingkungan tempat tinggal. **Adaptasi yang dilakukan** meliputi jenis mata pencaharian utama, makanan, bentuk tempat tinggal, pakaian yang dikenakan, peralatan rumah tangga, dan teknologi. Semua kegiatan itu menyesuaikan tempat mereka tinggal.

PERHATIKAN VIDEO PEMBELAJARAN BERIKUT INI !



SOAL LATIHAN

PILIH LAH JAWABAN YANG PALING BENAR !

1. **Indonesia memiliki posisi geografis yang terletak di antara 2 benua yaitu.....**
 - A. Benua Amerika dan Eropa
 - B. Benua Asia dan Afrika
 - C. Benua Asia dan Australia
 - D. Benua Asia dan Amerika

2. **Indonesia terletak diantara 2 samudera yaitu.....**
 - A. Samudera Pasifik dan Antartika
 - B. Samudera Hindia dan Atlantik
 - C. Samudera Atlantik dan Antartika
 - D. Samudera Pasifik dan Hindia
3. **Letak kota atau tempat pada peta dinyatakan dengan.....**
 - A. Garis lurus dan garis datar
 - B. Garis bujur dan garis lintang
 - C. Garis bujur dan garis lengkung
 - D. Garis lintang dan garis cekung
4. **Ketampakan alam disebut juga.....**
 - A. Bentang alam
 - B. Fenomena alam
 - C. Keadaan alam
 - D. Bencana alam
5. **Letak geografis adalah.....**
 - A. Letak suatu daerah ditinjau dari garis bujur dan garis lintang
 - B. Letak suatu daerah ditinjau dari ketampakannya di bumi
 - C. Letak suatu daerah ditinjau dari penduduknya
 - D. Letak suatu daerah ditinjau dari flora dan fauna yang dimilikinya
6. **Yang termasuk kenampakan alam yang berupa perairan adalah**
 - A. Bukit
 - B. Gunung
 - C. Selat
 - D. Sawah

7. Berikut yang bukan termasuk kenampakan alam berupa perairan adalah

....

- A. Selat
- B. Danau
- C. Pegunungan
- D. Sungai

8. Secara astronomi Indonesia terletak di

- A. 6° LU - 11° LU DAN 95° BT - 141° BT
- B. 6° LU - 11° LU DAN 95° BT - 141° BB
- C. 6° LU - 11° LS DAN 95° BT - 141° BT
- D. 6° LS - 11° LS DAN 95° BT - 141° BT

9. Yang termasuk kenampakan alam yang berupa daratan adalah

- A. Teluk
- B. Gunung
- C. Selat
- D. Laut

10. Daerah yang daratannya berada pada ketinggian antara 0 - 200 meter disebut

- A. Dataran Rendah
- B. Pegunungan
- C. Dataran Tinggi
- D. Perbukitan