

### A. Berilah tanda silang (x) pada jawaban yang benar!

1. Perhatikan gambar berikut!



Sumber: Dokumen Penerbit

Ungkapan pemberitahuan yang tepat adalah ....

- A. Dilarang makan ikan!
  - B. Dilarang memancing ikan!
  - C. Dilarang membawa ikan!
2. Buanglah sampah pada tempatnya!  
Gambar yang sesuai ungkapan pemberitahuan di atas adalah ....



Sumber: Dokumen Penerbit

3. Bacalah puisi di bawah ini!

Hewan peliharaan kesayanganku  
Kaubegitu menggemaskan  
Bulumu sangat halus  
Tingkahmu begitu lucu  
Kausuka makan ikan  
Kausuka mengejar tikus  
Kau juga suka menggosokkan kepala di kakiku  
Aku sangat sayang kepadamu

Hewan yang dimaksud adalah ....

- A. ayam
  - B. ikan
  - C. kucing
4. Andaikan kamu punya hewan peliharaan.  
Sikap yang baik terhadap hewan peliharaan adalah ....
- A. menyayangi
  - B. bersikap kasar
  - C. tidak mau merawat
5. Contoh cara merawat hewan peliharaan adalah ....
- A. memberi makan setiap hari
  - B. membiarkannya sakit
  - C. tidak memberi makan
6. Salah satu aturan merawat kelinci adalah ....
- A. memberi makan satu kali sehari
  - B. memotong kuku yang sudah panjang
  - C. membiarkan kandang kotor


7. Beruang adalah hewan yang hidup di ....  
A. air                      B. darat                      C. udara
8. Contoh hewan yang telurnya bisa dimakan adalah ....  
A. kupu-kupu      B. kodok                      C. bebek
9. Contoh hewan ternak adalah ....  
A. harimau              B. bebek                      C. anjing laut
10. Perhatikan gambar hewan di bawah ini!



Sumber: Dokumen Penerbit

Kupu-kupu ... lebah.

- A. sama banyak dengan
  - B. lebih banyak dari
  - C. lebih sedikit dari
11. Bilangan 56 ... bilangan 59.  
A. lebih besar dari  
B. lebih kecil dari  
C. sama dengan
  12. Perhatikan bilangan-bilangan di bawah ini!



Urutan bilangan dari yang paling kecil adalah ....

- A. 24, 20, 29
- B. 20, 24, 29
- C. 29, 24, 20

13. Perhatikan bilangan-bilangan di bawah ini!

41 37 39

Urutan bilangan dari yang paling besar adalah ....

- A. 41, 37, 39
- B. 37, 39, 41
- C. 41, 39, 37

14. Perhatikan bilangan-bilangan di bawah ini!

61 69 59

Bilangan yang paling besar adalah ....

- A. 61
- B. 69
- C. 59

15. Perhatikan gambar di samping!

Anak itu meniru gerakan ....

- A. ayam
- B. bangau
- C. kelinci



Sumber: Dokumen Penerbit

**B. Isilah titik-titik di bawah ini!**

1. Perhatikan gambar di bawah ini!




Sumber: Dokumen Penerbit

Gambar ini ditempel di dalam bus kota.

Ungkapan pemberitahuan yang tepat adalah ....

2. Tiko sayang pada kelincinya.  
Jika sakit, kelincinya segera ....
3. Burung bergerak dengan cara ....
4. Paus adalah hewan yang hidup di ....
5. Perhatikan gambar di bawah ini!



Sumber: Dokumen Penerbit

Hewan ternak ditunjukkan gambar nomor ....

6. Perhatikan bilangan-bilangan di bawah ini!



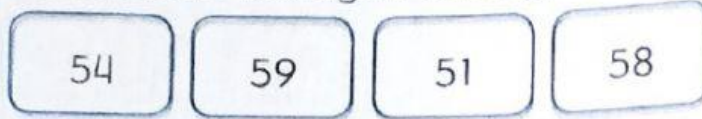
Bilangan yang lebih besar adalah ....

7. Paman punya 26 ayam.  
Paman juga punya 29 bebek.  
Hewan ternak Paman yang lebih sedikit adalah ....
8. Perhatikan bilangan-bilangan di bawah ini!



Bilangan yang paling besar adalah ....

9. Perhatikan bilangan-bilangan di bawah ini!



Bilangan yang paling kecil adalah ....

10. Perhatikan gambar di bawah ini!



*Sumber: Dokumen Penerbit*

Anak itu menirukan gerakan hewan, yaitu ....