



Evaluación de Ciencias Naturales

1. Marque las imágenes que muestran hábitos de vida saludable.



2. Elija la respuesta correcta y complete la frase.



a. La Luna gira alrededor de la Tierra y tarda en dar la vuelta completa a nuestro planeta.

26 días

27 días

28 días

3. Escriba las diferentes fases lunares vistas desde el hemisferio sur de acuerdo al gráfico.



4. Complete la pirámide alimenticia arrastrando los alimentos según corresponda.

Verduras

Lacteos

Frutas

Carne

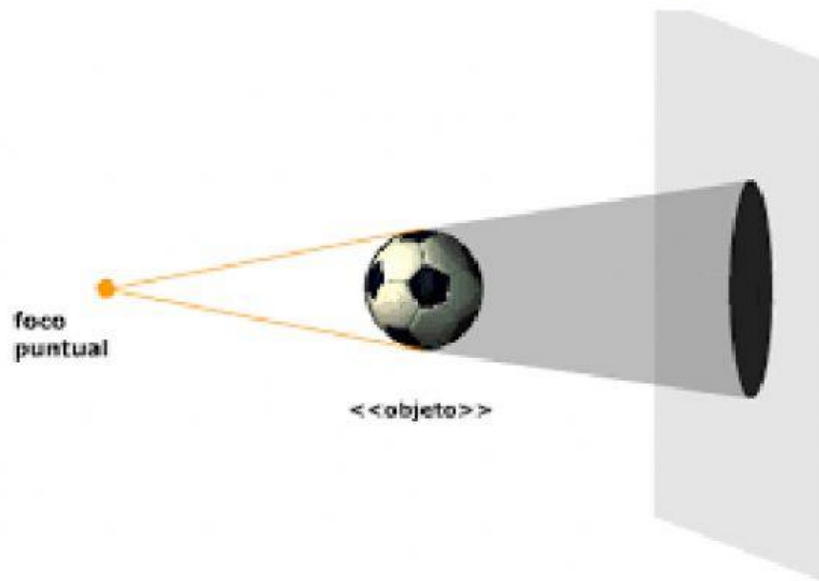
cereales, pastas y panes

arroz y dulces

5. Enlace cada uno de los objetos con su sombra.



6. Seleccione la sombra y la penumbra de la siguiente imagen.



7. Seleccione las imágenes que siguen las normas de higiene para el manejo adecuado de los alimentos.



8. Seleccione eclipse lunar o solar de acuerdo a la imagen.

