
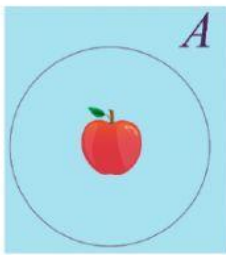


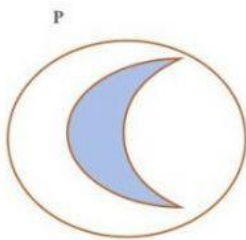
## Clases de conjuntos:

Marca lo que se te indica:

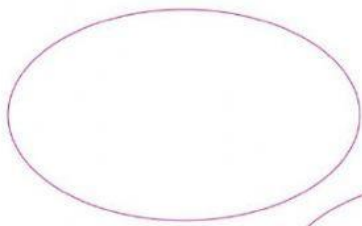
a) Conjunto unitario:



b) Conjunto finito:



c) Conjunto vacío:



d) Conjunto infinito:



e) Conjunto unitario:

