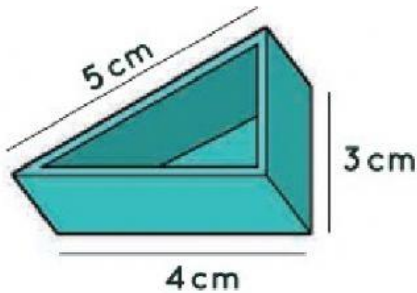


Nama : _____

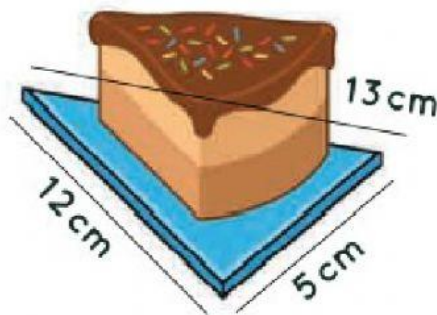
Kelas : 4C

Hitunglah keliling segitiga dibawah, Isi angka saja!



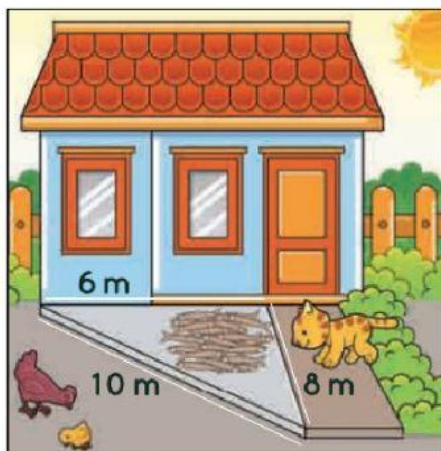
Keliling = ___ cm + ___ cm + ___ cm

Keliling = ___ cm



Keliling = ___ cm + ___ cm + ___ cm

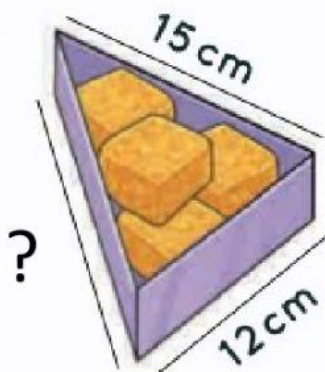
Keliling = ___ cm



Halaman rumah Pak Udin berbentuk segitiga siku-siku dengan ukuran sisi sesuai gambar disamping. Hitunglah Keliling Halaman Pak udin!

Keliling = ___ m + ___ m + ___ m

Keliling = ___ m



Jika tempat makanan di samping memiliki keliling 45 cm, ukuran sisi yang miring (?) adalah _____ cm