

Nama :

Kelas :

Tulislah {ketik} salah satu huruf a,b,c atau d sebagai pilihan jawaban yang benar!

PPKN

1. Di bawah ini salah satu hak dan kewajiban sebagai warga negara yang baik dalam kehidupan sehari-hari, *kecuali*....
 - a. Penebangan pohon liar di jalan pinggir desa
 - b. Bergotong royong membangun jembatan penyebrangan
 - c. Ronda malam
 - d. Membayar pajak dengan tepat waktu
2. Didesa tempat tinggal Udin sedang diadakan pemilihan ketua RW. Udin bertugas menjaga adik dirumah karena ayah dan ibu Udin ikut memilih di balai warga. Ayah dan ibu Udin telah mendapatkan haknya sebagai warga negara Indonesia. Di bawah ini hak yang diperoleh ayah dan ibu Udin yang benar adalah
 - a. Hak mengemukakan pendapat melalui pemilihan kepala RW. Hak ini termasuk hak dalam bidang politik
 - b. Hak mendapat pendidikan
 - c. Hak kebebasan memelihara dan mengembangkan nilai-nilai budayanya
 - d. Hak mendapat perlindungan hukum
3. Berikut kewajiban sebagai siswa di lingkungan rumah yang benar, *kecuali*
 - a. Kewajiban belajar
 - b. Kewajiban untuk membantu orang tua mencari uang
 - c. Kewajiban menjalankan perintah agama
 - d. Kewajiban membantu orang tua membereskan pekerjaan rumah
4. Dalam UUD 1945 Pasal 31 ayat (1) berisikan hak tentang
 - a. Mendapat perlindungan hukum
 - b. Memperoleh fasilitas pelayanan kesehatan
 - c. Mendapat pendidikan
 - d. Kemerdekaan berserikat dan berkumpul serta mengeluarkan pikiran

BAHASA INDONESIA

Bacalah teks bacaan berikut untuk soal 5-8

Perang Paderi

Merupakan perlawanan yang sangat menyita tenaga dan biaya sangat besar bagi rakyat Minang dan Pemerintah Hindia Belanda. Bersatunya Kaum Paderi (ulama) dan kaum adat melawan Pemerintah Hindia Belanda menyebabkan Belanda kewalahan memadamkannya. Bantuan dari Aceh juga datang untuk mendukung pejuang Paderi.

Pemerintah Hindia Belanda benar-benar menghadapi musuh yang tangguh. Belanda menerapkan sistem pertahanan Benteng Stelsel. Benteng Fort de Kock di Bukit tinggi dan Benteng Fort van der Cappelen merupakan dua benteng pertahanannya. Dengan siasatter sebutakhirnya Belanda menang ditandai dengan jatuhnya benteng pertahanan terakhir Paderi di Bonjoltahun 1837. Tuanku Imam Bonjol kemudian ditangkap, dan diasingkan ke Priangan, kemudian ke Ambon, dan terakhir di Menado hingga wafat tahun 1864.

5. Perang paderi terjadi di
 - a. Sumatera Utara
 - b. Maluku Utara
 - c. Sumatera Selatan
 - d. Sumatera Barat
6. Benteng Fort de Kock berada di
 - a. Priangan
 - b. Bonjol
 - c. Bukit tinggi
 - d. Ambon
7. Tuanku Imam Bonjolwafat pada tahun
 - a. 1863
 - b. 1865
 - c. 1864
 - d. 1866
8. Yang bukan tempat pengasingan Tuanku Imam Bonjol adalah
 - a. Priangan
 - b. Ambon
 - c. Menado
 - d. Bukit tinggi

IPA

9. Diketahui ciri-ciri anak laki-laki sudah mengalami pubertas adalah
 - a. Tumbuh payudara yang membesar
 - b. Tumbuh kumis, jambang dan janggut
 - c. Pinggul yang membesar
 - d. Suara melengking
10. Diketahui ini ciri-ciri anak perempuan sudah mengalami masa puber, *kecuali*
 - a. Tumbuhnya rambut halus pada ketiak dan alat kelamin
 - b. Bahu bertambah lebar dan bidang
 - c. Payudara membesar
 - d. Suara jadi melengking
11. Edo sekarang sudah berusia 11 tahun. Edo sudah memasuki pada masa....
 - a. Masa remaja awal
 - b. Masa remaja akhir
 - c. Orang dewasa
 - d. Anak-anak
12. Usia pubertas pada anak perempuan adalah
 - a. 8-13 tahun
 - b. 13-15 tahun
 - c. 5-10 tahun
 - d. 20-25 tahun





IPS

13. Proklamasi berasal dari kata "proclamatio", (dari bahasa Yunani) . di bawah ini arti dari "proclamatio" yang benar adalah
 - a. Pengumuman resmi kepada seluruh rakyat
 - b. Pengumuman resmi kepada seluruh negara
 - c. Undang-undang dasar kepada seluruh rakyat
 - d. Undang-undang dasar kepada seluruh negara
14. Diketahui ini yang membacakan proklamasi kemerdekaan Republik Indonesia pada tanggal 17 Agustus 1945 adalah
 - a. BJ Habibie
 - b. Megawati Soekarno Putri
 - c. Soekarno-Hatta
 - d. Abdurrahman Wahid
15. Diketahui ini makna Proklamasi Kemerdekaan yang benar, *kecuali*
 - a. Proklamasi sebagai puncak perjuangan bangsa Indonesia
 - b. Proklamasi sebagai walter bentuknya Negara Kesatuan Republik Indonesia

- c. Proklamasi menjadi pintu gerbang menuju masyarakat yang adil dan makmur
 - d. Proklamasi sebagai pintu gerbang menuju masyarakat yang bercerai berai dan tidak bersatu
16. Dibawah ini upaya untuk mengisi kemerdekaan yang benar, *kecuali*
- a. Mengikut l upacara kemerdekaan dengan hikmat
 - b. Ikut serta dalam mengemukakan gagasan/ide/pendapat di dalam kemerdekaan yang ada di kalangan masyarakat maupun sekolah
 - c. Saling menghormati antarsesama
 - d. Bermalas-malasan dalam beribadah

SBDP

17. Di bawah ini contoh alat musik margondang adalah

- a. 
- b. 
- c. 
- d. 

18. Di bawah ini pengertian dari tari kreasi yang benar adalah
- a. Tari yang gerakannya merupakan perkembangan dari gerakan tari modern
 - b. Tari yang gerakannya seperti tari reog
 - c. Tari yang gerakannya merupakan perkembangan dari gerak tari tradisonal
 - d. Tari yang gerakannya seperti tari jaipong
19. Pada umumnya tarian ini ditarikan oleh penariputra. Tema yang menjadi sumber arianini mengambil dari cerita panji. Cerita ini tentang Raja Klana Sewandana yang sedang jatuh cinta. Nama tarian yang sesuai dengan ciri-ciri tersebut adalah
- a. Tari KlanaTopenng
 - b. Tari kandangan
 - c. Tari Pendet
 - d. Tari Remo



20.

Isi reklame pada gambar di atas adalah

- a. Imbauan bijak memilih makanan
- b. Ajakan melindungi anak-anak dari bahaya penyalahgunaan narkoba
- c. Mencegah penyakit demam berdarah
- d. Anak depresi