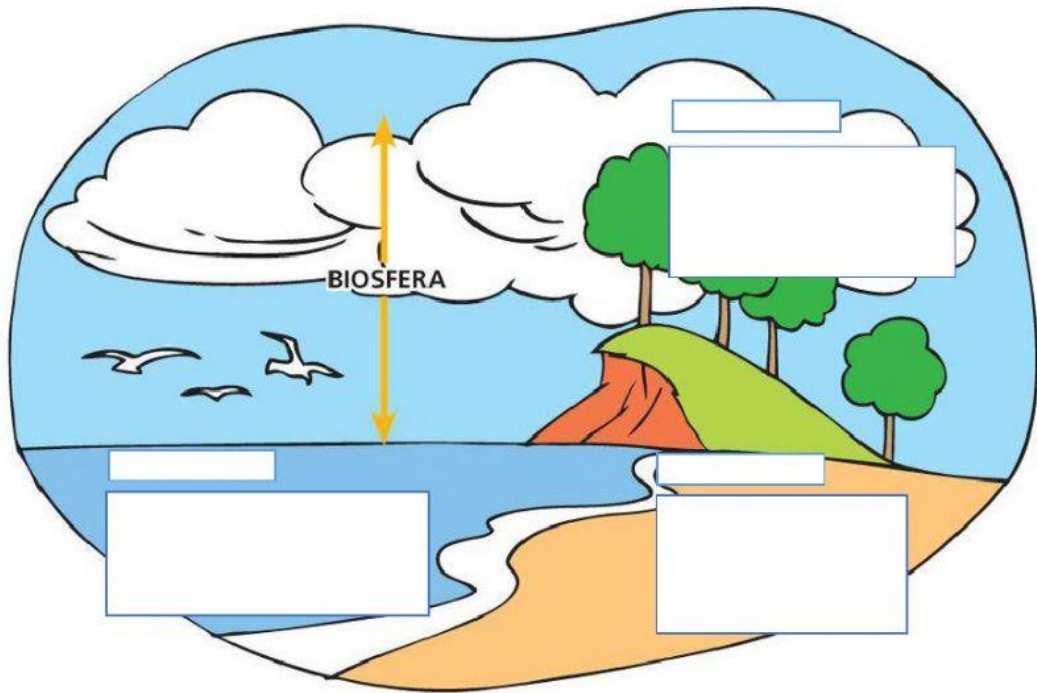


NOMBRE _____

GRADO _____

1. Relaciona las características de las capas externas de la Tierra donde corresponda y selecciona los nombres de cada una de ellas.



Envoltura gaseosa del planeta Tierra.

Constituida por toda el agua de la Tierra.

Parte sólida de la tierra, integrada por rocas y metales.

2. Escoge cual es la característica correspondiente a cada capa de la Atmósfera.

Tropósfera	→	
Estratósfera	→	
Mesósfera	→	
Termósfera	→	
Exósfera	→	

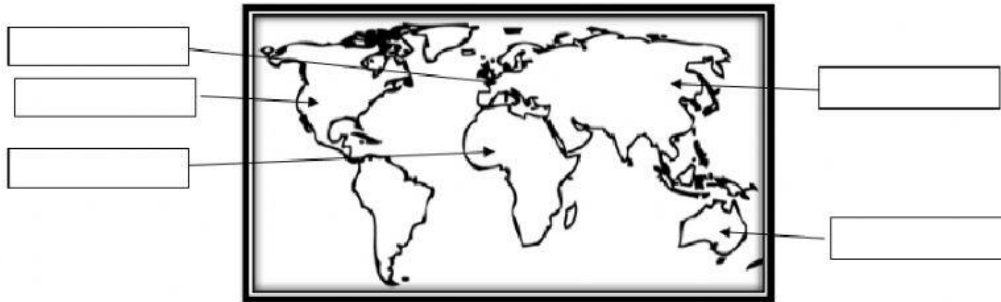
3. Selecciona el nombre correspondiente de cada océano.



4. Une cada palabra con la columna del centro.

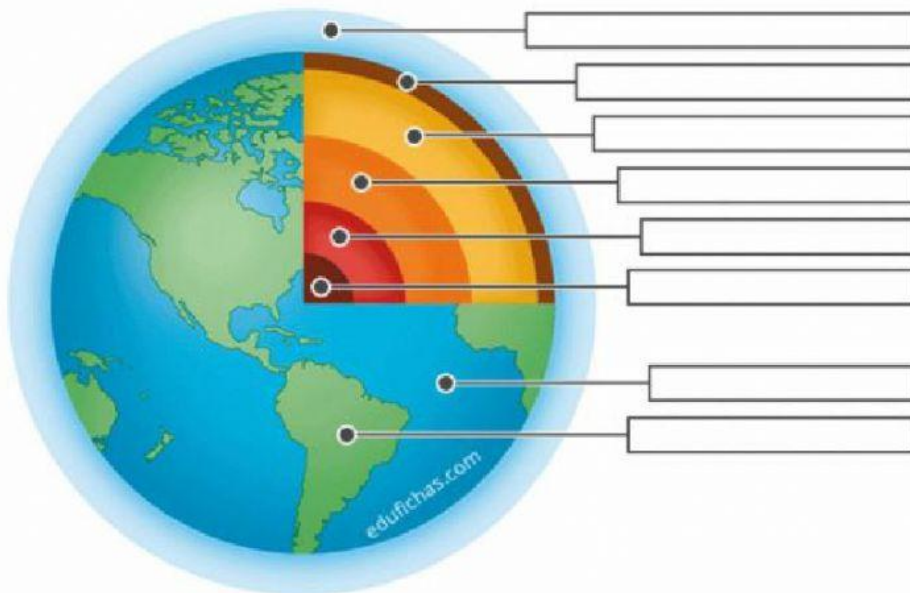
nube •	• hidrosfera •	• roca
isla •	• atmósfera •	• aire
río •	• geosfera •	• agua

5. Selecciona el nombre correspondiente de cada continente de la Tierra.



6. Selecciona el nombre de cada capa de la tierra.

Capas de la Tierra



7. ¿Por qué debemos cuidar nuestro planeta Tierra? Escribe dos motivos.