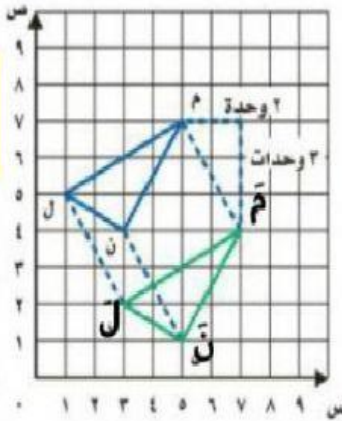




نشاط درس الانسحاب

اسم الطالب: الصف: خامس /

أنظر للشكل المجاور للإجابة على الأسئلة التالية:

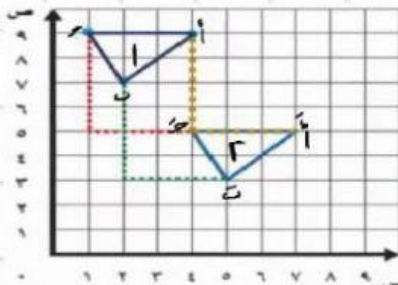


الزوج المرتب لرؤوس المثلث م ن ل:

م (□, □), ن (□, □), ل (□, □)

تمت إزاحته وحدتين لليمين و ثلاث وحدات للأسفل,

فأصبحت رؤوسه: م̄ (□, □), ن̄ (□, □), ل̄ (□, □)

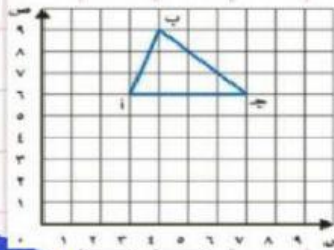


أنظر للشكل المجاور للإجابة على الأسئلة التالية:

أي الشكلين التاليين يمثل صورة الانسحاب؟

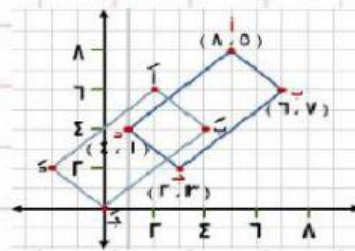
أ) الشكل 1 ب) الشكل 2

رؤوس الشكل 2 هي: أ (□, □), ب (□, □), ج (□, □)

أكتب إحداثيات الشكل بعد انسحاب
وحدتين للأسفل ووحدة واحدة لليمين.

أ (□, □), ب (□, □), ج (□, □)

الانسحاب في الشكل أدناه عبارة عن:



أ) ثلاث وحدات لليمين و وحدتين للأعلى

ب) ثلاث وحدات لليسار و وحدتين

للأسفل