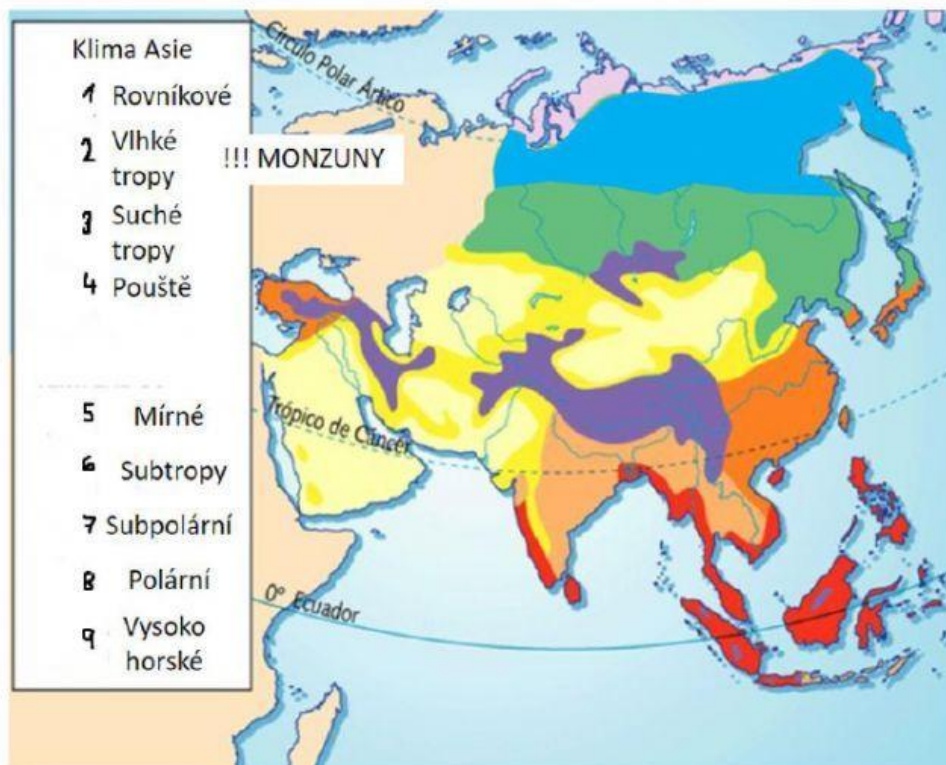


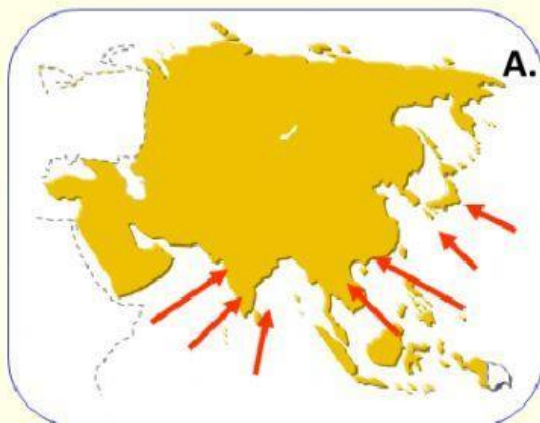
Podnebí Asie

1. Doplň čísla podnebných oblastí do mapy:



2. Správně doplň text o monzunech v Asii:

Monzuny: větry způsobené nerovnoměrným zahříváním zemského povrchu a členitostí zemského povrchu.



A. **LETNÍ** monzun vane z _____ a přináší _____.

B. **ZIMNÍ** monzun vane z _____ a přináší _____.

3. Ke každému podnebnému pásu, do kterého Asie zasahuje, vyber stát, který tomuto podnebí odpovídá:

TROPICKÝ PÁS - _____

SUBTROPICKÝ PÁS - _____

MÍRNÝ PÁS - _____

SUBPOLÁRNÍ PÁS - _____

POLÁRNÍ PÁS - _____

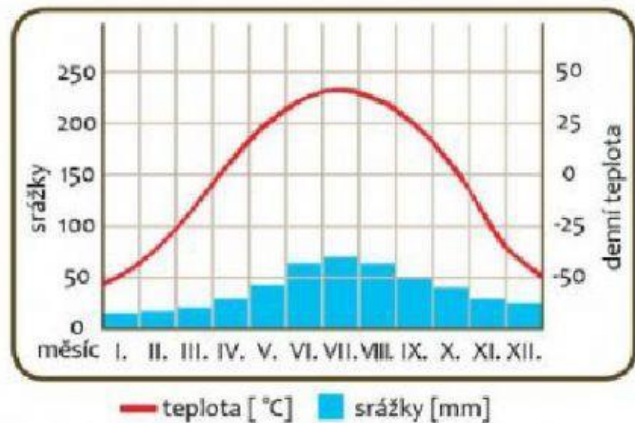
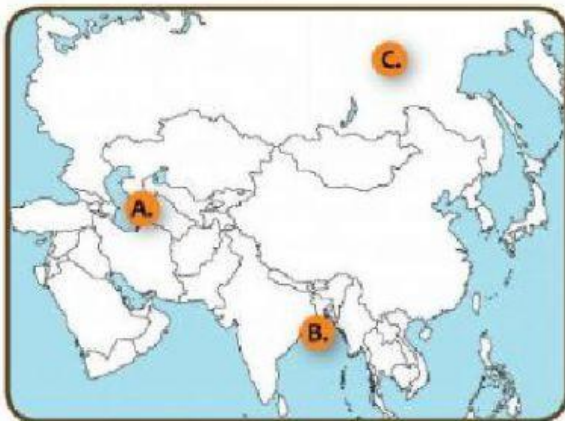
4. Doplň text:

Nejsušší místo se nachází na poloostrově. Leží v podnebném pásu. Oblast leží na území Nejsušší pouští je Taklamakan na území Leží v podnebném pásu, přístupu vlhkého vzduchu brání

Nejdeštivější místo je na území Leží v podnebném pásu. Na množství srážek má vliv především letní Vyšší vlhkost vzduchu v oblasti způsobuje i mořský proud.

5. Urči, kterému místu patří klimadiagram:

Prohlédni si pozorně klimadiagram a správně ho přiřaď k nabízeným místům v Asii:



Klimadiagram náleží místu:

6. Kterému typu krajiny odpovídají tyto klimadiagramy? Přiřaď:

deštný prales tundra poušť savana

