



Tematik Tema 8 Matematika



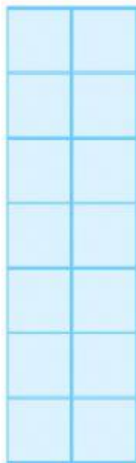
Mengenal Keliling

Nama :

بِسْمِ اللَّهِ الرَّحْمَنِ الرَّحِيمِ


Pilihlah jawaban yang paling benar!

1. Berapakah keliling bangun dibawah ini



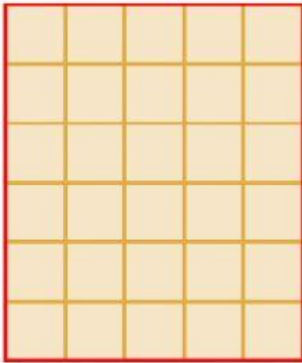
- a. 16
- b. 18
- c. 20
- d. 22

2. Berapakah keliling bangun di bawah ini



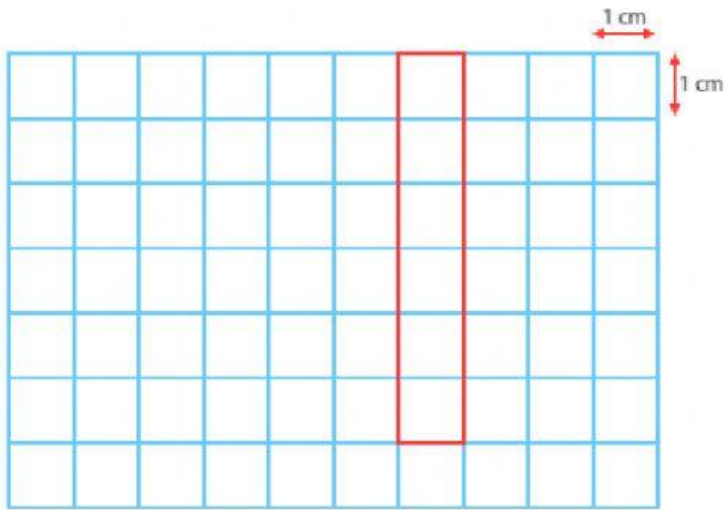
- a. 5
- b. 12
- c. 16
- d. 20

3. Berapakah keliling bangun di bawah ini



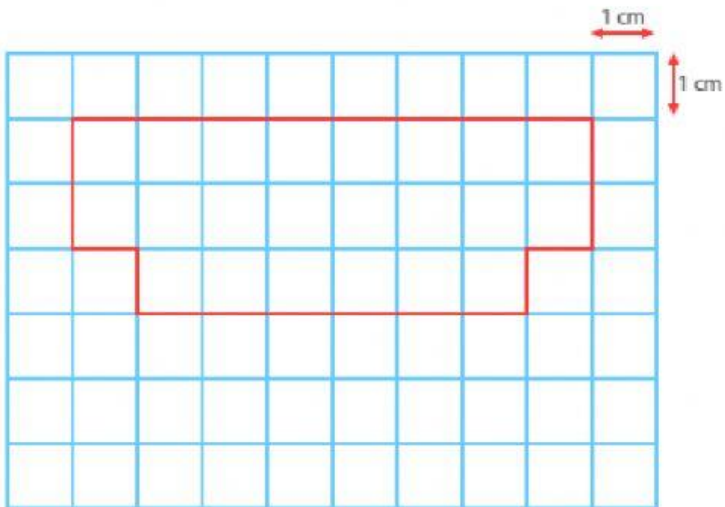
- a. 20
- b. 22
- c. 24
- d. 26

4. Berapakah keliling bangun di bawah ini



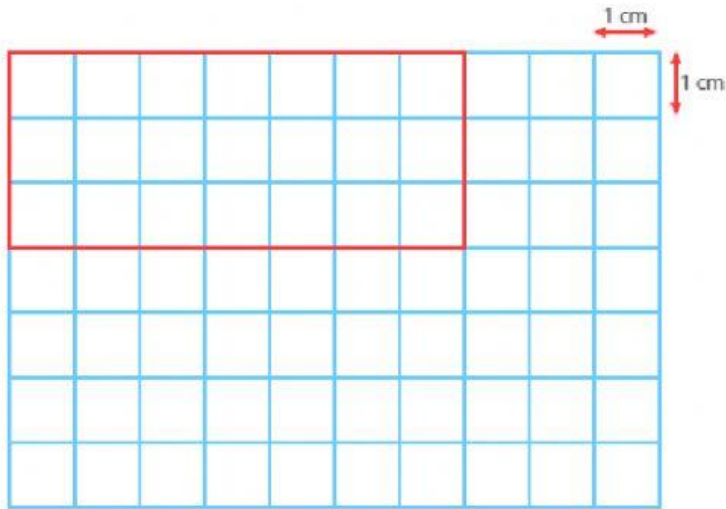
- a. 12 cm
- b. 14 cm
- c. 16 cm
- d. 18 cm

5. Berapakah keliling bangun di bawah ini



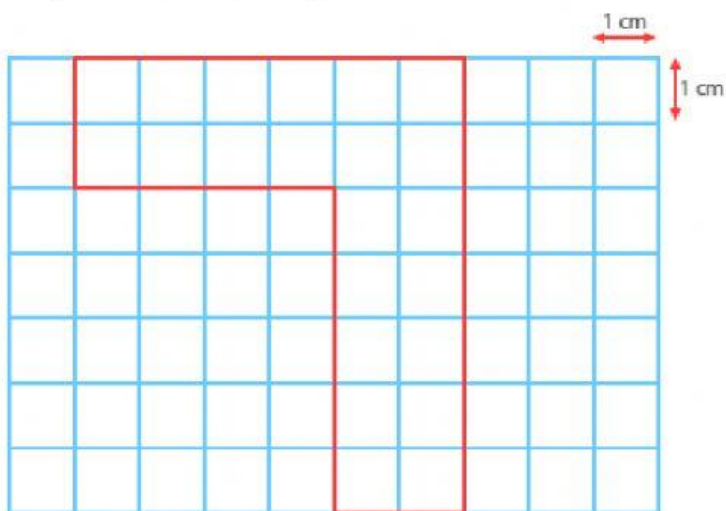
- a. 18 cm
- b. 20 cm
- c. 22 cm
- d. 24 cm

8. Berapakah keliling bangun di bawah ini



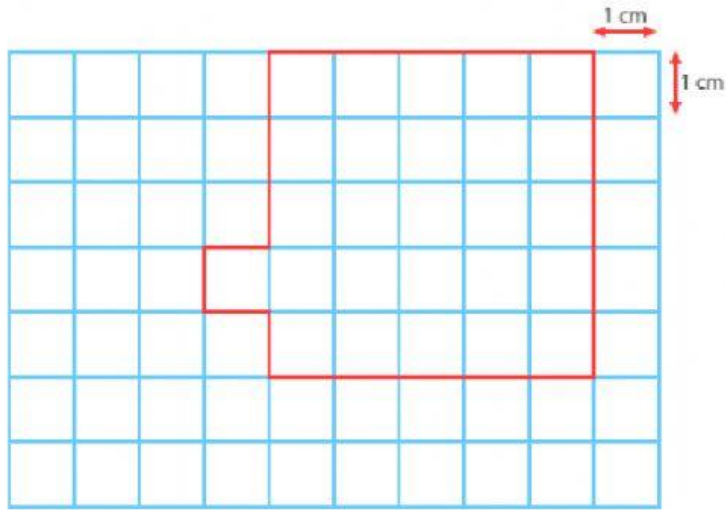
- a. 15 cm
- b. 20 cm
- c. 25 cm
- d. 30 cm

9. Berapakah keliling bangun di bawah ini



- a. 26 cm
- b. 27 cm
- c. 28 cm
- d. 29 cm

10. Berapakah keliling bangun di bawah ini



- a. 16 cm
- b. 18 cm
- c. 20 cm
- d. 22 cm

الْحَمْدُ لِلَّهِ رَبِّ الْعَالَمِينَ