





























Transferencia semana 10:

¿Cuáles son nuestros juguetes favoritos?

- 1. Cuenta** los juguetes preferidos por los niños de 1er. grado y **completa** el cuadro.

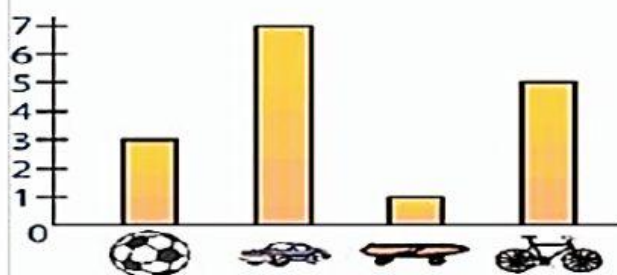
						
						
						
Juguete						
Conteo de palotes						
En números						

- 2. Ahora, en la gráfica, colorea** un cuadradito por cada juguete que contaste.



A jugar con los gráficos de barras

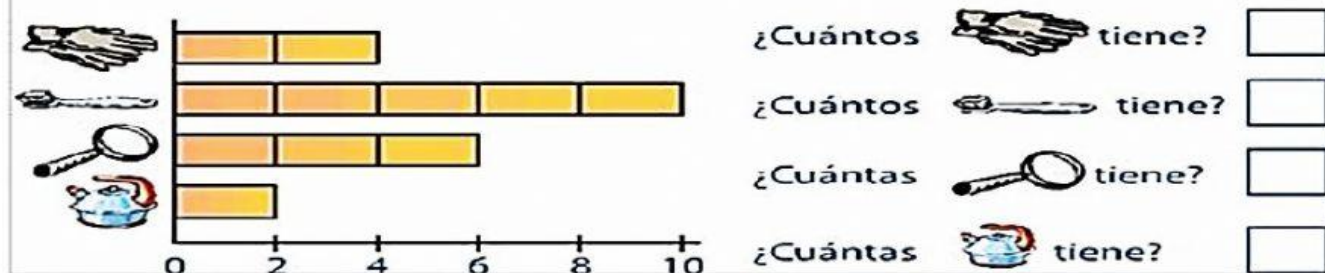
Observa el gráfico de barras que hizo Marcos para contabilizar los juguetes que tiene y luego, **completa**:



- | | | | |
|----------|---|--------|----------------------|
| ¿Cuántas |  | tiene? | <input type="text"/> |
| ¿Cuántos |  | tiene? | <input type="text"/> |
| ¿Cuántas |  | tiene? | <input type="text"/> |
| ¿Cuántos |  | tiene? | <input type="text"/> |

A pensar ...

Observa el siguiente gráfico que nos indica la venta de un día en la tienda y responde:



Diego realiza una encuesta a sus amigos y les pregunta por sus animales preferidos.



- a) ¿A cuántos niños le preguntó?.....
- b) ¿Cuántos prefieren al perro?.....
- c) ¿Cuántos prefieren al gato?.....
- d) ¿Cuántos prefieren a la paloma?.....
- e) ¿Cuántos prefieren al caballo?.....
- f) ¿Cuántos prefieren al pollo?.....

Actividad 2: Rocío pregunta a sus amigos por el sabor de helado que más les gusta. Cuenta las marcas para saber la cantidad. Escribe el número total de preferencias.

HELADO	CONTEO	TOTAL
CHOCOLATE		
VAINILLA		
FRESA		
TOTAL		