


20) (M030321H6) Observe a sequência de números abaixo. Ela começa no número 54 e termina no número 62.

| | | | | |
|----|----|----|--|----|
| 54 | 56 | 58 | | 62 |
|----|----|----|--|----|


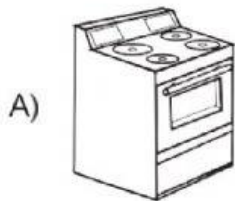
Qual é o número que está faltando nessa sequência?

- A) 59 B) 60
C) 61 D) 63

21) (M020027G5) Observe abaixo alguns objetos da cozinha de Ana.



Qual é o objeto que está mais distante da cadeira?



22) (M040095H6) Um padeiro pesou a farinha que seria usada para fazer pães.

Qual é a unidade de medida mais adequada para o padeiro registrar essa quantidade de farinha?

- A) L B) m
C) kg D) km