



AVALIAÇÃO DIAGNÓSTICA DE ENTRADA

2021

MATEMÁTICA 1º ano do Ensino Fundamental

Nome da Escola _____

Nome do Aluno _____

Data ____/____/____ Turma _____

UTILIZE O LEITOR RESPOSTA ABAIXO DESSA LINHA ENQUADRANDO A CÂMERA APENAS NAS BOLINHAS

17) (M010295E4) Observe as aves abaixo.



GALO



CORUJA



PAPAGAIO




PARDAL

Qual ave está entre o galo e o papagaio?

A



B



C



D



18) (M01042017) Amanda tem 5 máscaras, Patrícia tem 4 máscaras e Luan tem 6 máscaras. Quantas máscaras Amanda, Patrícia e Luan têm juntos?

A

5

B

9

C

14


D

15

19) (M01042417) Observe, na imagem abaixo, os horários das atividades que Lúcia fez pela manhã.

				
7 HORAS	8 HORAS	9 HORAS	10 HORAS	11 HORAS

De acordo com essa imagem, o que Lúcia fez antes das 8 horas?



20) (M01042217) Observe as estantes abaixo.



I



II



III



IV

Qual dessas estantes é a mais alta?

A I

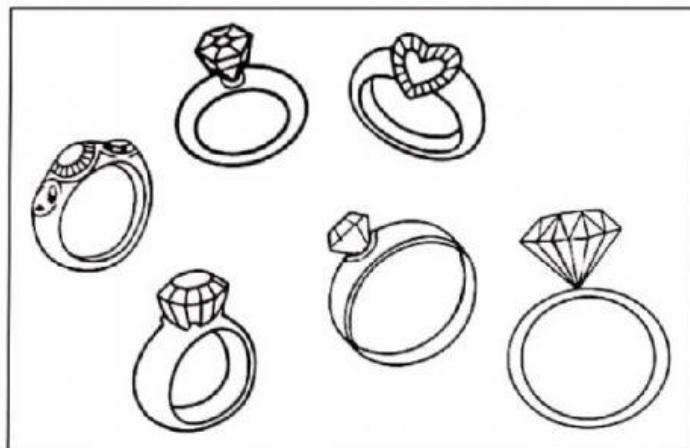
B II

C III

D IV

M0101

21) (M010612H6) Observe abaixo os anéis que Gabriela tem.



Quantos anéis Gabriela tem, ao todo?


☐ A 3

☐ B 5

☐ C 6

☐ D 7

22) (M010225H6) Observe abaixo o desenho que Gláucia fez.



Qual figura geométrica Gláucia desenhou?

☐ A CÍRCULO.

☐ B QUADRADO.

☐ C RETÂNGULO.

☐ D TRIÂNGULO.