


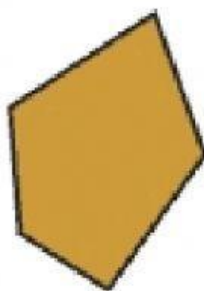


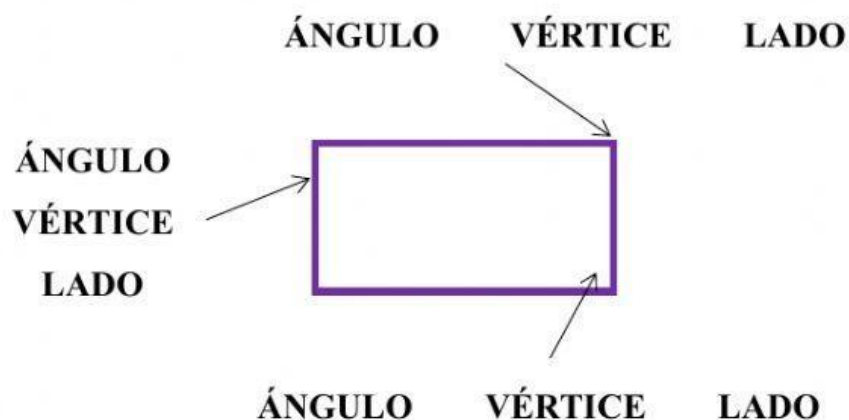
LOS POLÍGONOS

RECUERDA. Un polígono es una superficie plana con todos sus lados (bordes) rectos.

1.- Pincha en aquellas figuras planas que sean polígonos.



2.- Marca el elemento del polígono que se indica en cada caso.



3.- Une con flechas.

Pentágono	Tiene 10 lados.
Cuadrilátero	Tiene 8 lados.
Triángulo	Tiene 6 lados.
Heptágono	Tiene 4 lados.
Octágono	Tiene 3 lados.
Decágono	Tiene 5 lados.
Hexágono	Tiene 9 lados.
Eneágono	Tiene 7 lados.

4.- Une con flechas.

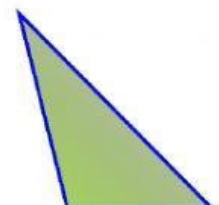
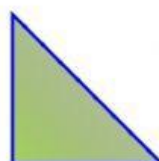
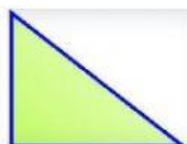

Triángulo isósceles	Tiene los tres lados iguales
Triángulo escaleno	Tiene dos lados iguales
Triángulo equilátero	Tiene los tres lados desiguales

5.- Une el nombre del triángulo con el dibujo correspondiente.

EQUILATERO

ISÓSCELES

ESCALENO



RECUERDA. El perímetro de un polígono es la suma de las longitudes de los lados, es decir, es la suma de todos sus lados.

6.- Calcula mentalmente.

a) El perímetro de un triángulo equilátero cuyo lado mide 6 cm es...

18 cm

15 cm

20 cm

b) El perímetro de un triángulo escaleno cuyos lados miden 4 cm, 6 cm y 10 cm es...

30 cm

20 cm

25 cm

c) El perímetro de un triángulo isósceles donde uno de los lados mide 5 cm y cada uno de los lados iguales mide 7 cm es...

19 cm

17 cm

20 cm

d) Si el perímetro de un triángulo equilátero mide 27 cm cada uno de sus lados mide...

9 cm

6 cm

10 cm

e) Si el perímetro de un triángulo escaleno mide 24 cm. Uno de los lados mide 5 cm, otro mide 8 cm el tercer lado medirá...

9 cm

10 cm

11 cm

f) El perímetro de un pentágono regular de lado 8 cm mide...

35 cm

45 cm

40 cm