



Evaluación Sumativa Unidad 0


1° Completa el pictograma arrastrando la cantidad de remolinos que corresponda:
















Remolinos de papel		
Remolino	Conteo	Cantidad
Terminado		9
No terminado		4
Total		13

Remolinos de papel




Terminado

No terminado

● Cada  representa 1 remolino.



Observa la tabla de una encuesta realizadas a niños y niñas sobre cuál es su color favorito, luego selecciona la alternativa correcta de la pregunta 2 y 3

Colores favoritos de un grupo de niños y niñas		
Color	Marcas de conteo	Cantidad de preferencias
Rojo 		4
Verde 		2
Amarillo 		3
Azul 		1

2° ¿Cuántas preferencias tiene el color rojo?

- ☐ 2
- ☐ 4
- ☐ 3

3° ¿Cuántas personas fueron encuestadas?

- ☐ 10
- ☐ 9
- ☐ 11

Completa el pictograma con la información que falte.

4° Rafael abrió su alcancía y registró la cantidad de monedas que guardó.



Completa el pictograma arrastrando la cantidad de símbolos que corresponda:

5° Jennifer cuenta la cantidad de flores en un invernadero y obtiene los siguientes resultados:








6° Observa la tabla, luego arrastra la respuesta correcta:

¿Qué actividad para ahorrar luz y agua es la menos preferida?

¿Qué actividad para ahorrar luz y agua es la más preferida?

¿Qué actividad para ahorrar luz y agua tiene 4 preferencias?

Actividades para ahorrar luz y agua			
			
Apagar luces y TV sin uso	Ducharse en menos de 5 minutos	Cepillarse los dientes sin agua corriendo	Desenchufar celulares ya cargados

Cada  equivale a 2 preferencias.

Apagar luces y tv sin uso

Desenchufar celulares ya cargados

Ducharse en menos de 5 minutos

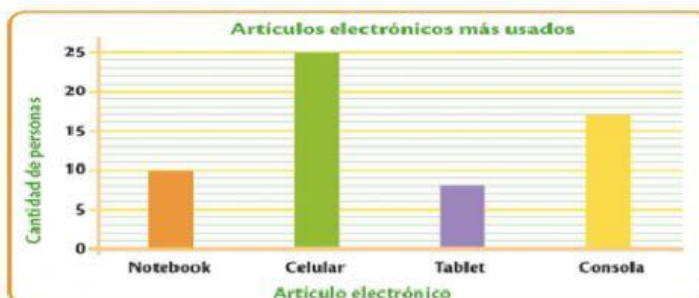
7° Observa la tabla, luego arrastra las respuestas correctas:

¿Qué artículo es el menos utilizado?

¿Qué artículo es el más utilizado?

¿Qué artículo es utilizado por 17 personas?

¿Qué artículo es utilizado por 10 personas?




Celular

Consola

Tablet

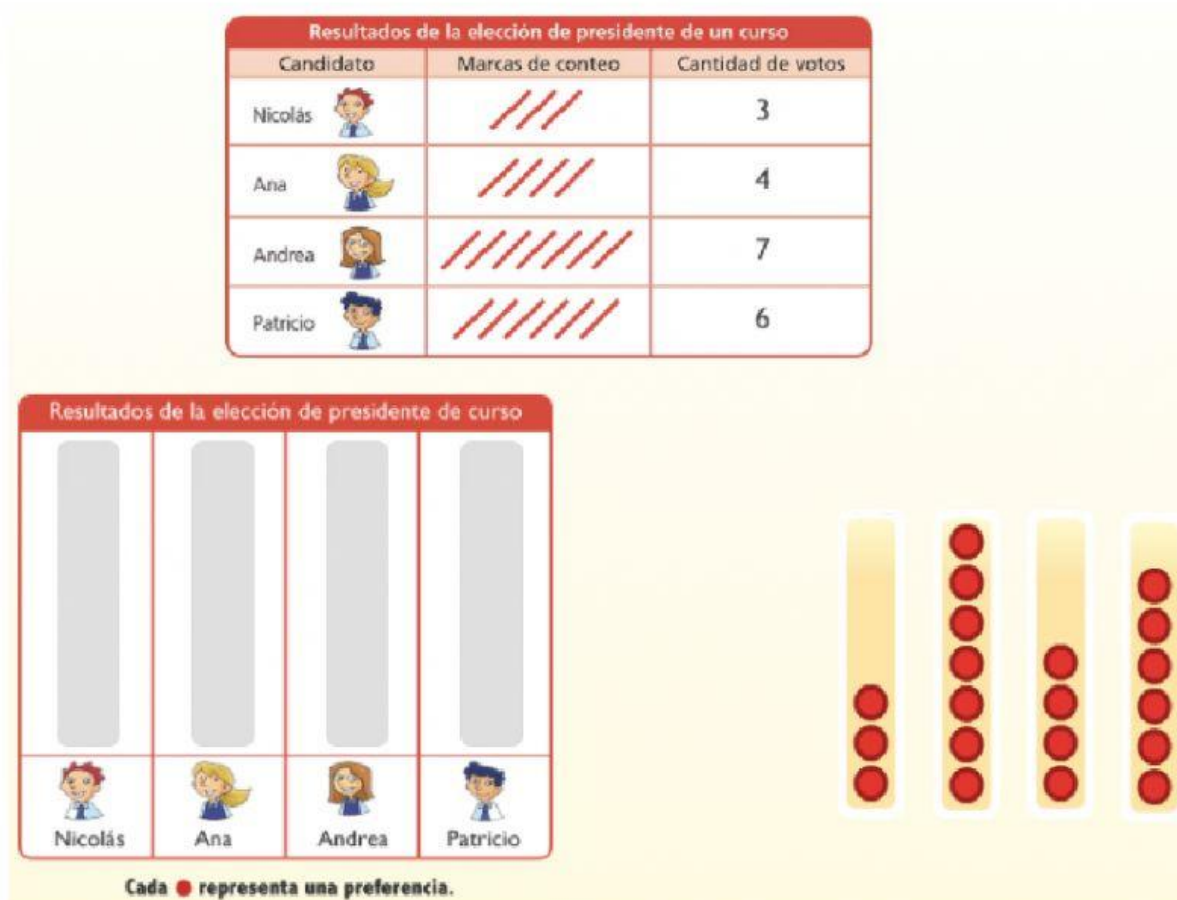
Notebook

8° Observa los envases que hay para reciclar y completa la tabla de conteo:



Envases para reciclar		
Tipo de envase	Conteo	Cantidad
		<input type="text"/>
		<input type="text"/>
		<input type="text"/>
	Total	<input type="text"/>

9° De acuerdo a la tabla, construye el pictograma correspondiente arrastrando los círculos:



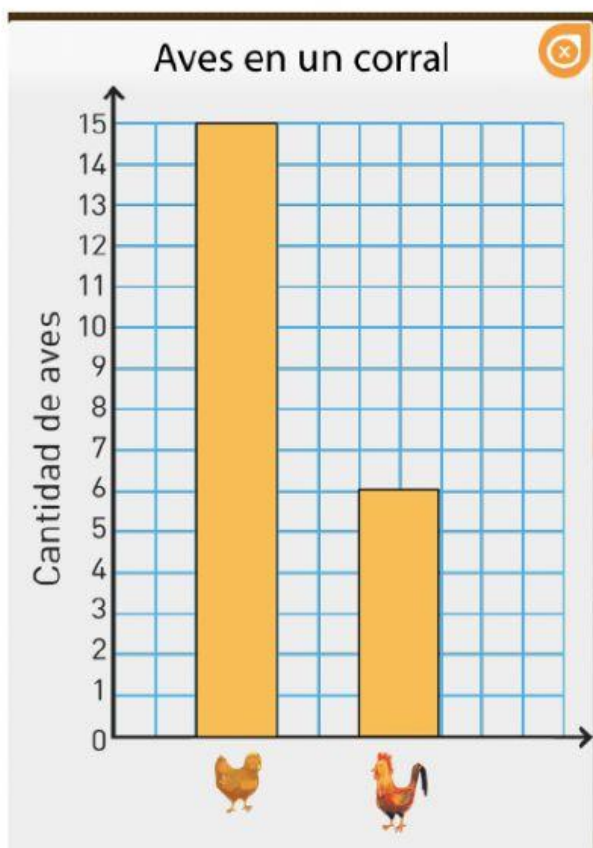
10° Completa arrastrando al pictograma el símbolo que representa la información dada:



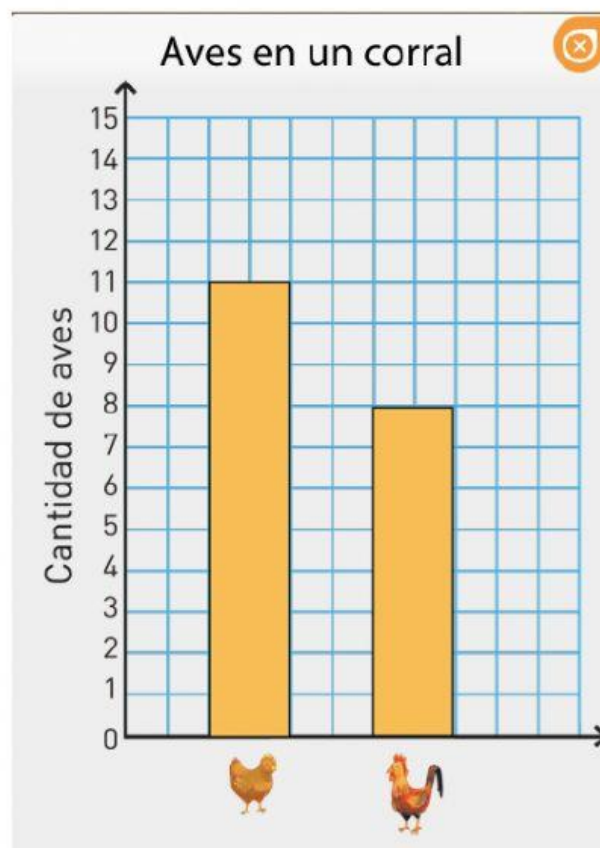
11º Selecciona el gráfico de barras que representa la información:



☐ A



☐ B

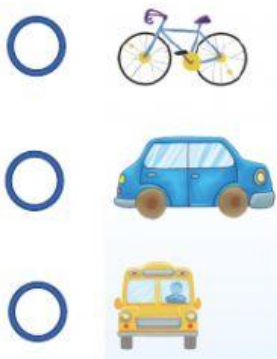


Observa la imagen y selecciona la alternativa correcta de las preguntas 12 -13-14.

12° ¿Cuántas personas respondieron la encuesta?

- ☐ 14
- ☐ 70
- ☐ 40

13° ¿Qué medio de transporte es el más utilizado?



14° Cuántas personas más prefieren ir en bicicleta que en micro al trabajo?

- ☐ 45
- ☐ 30
- ☐ 15

