



Escola Municipal Rodolf Mikel
Ghannam

Professor(a): _____
Estudante: _____
Anos Iniciais – 3º ano “_____”



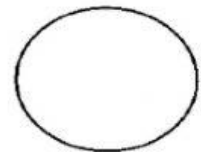
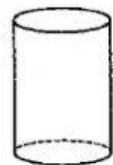
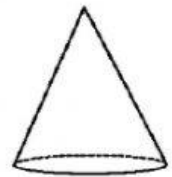
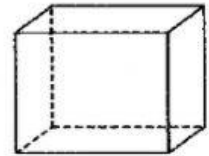

Prefeitura de
ANÁPOLIS



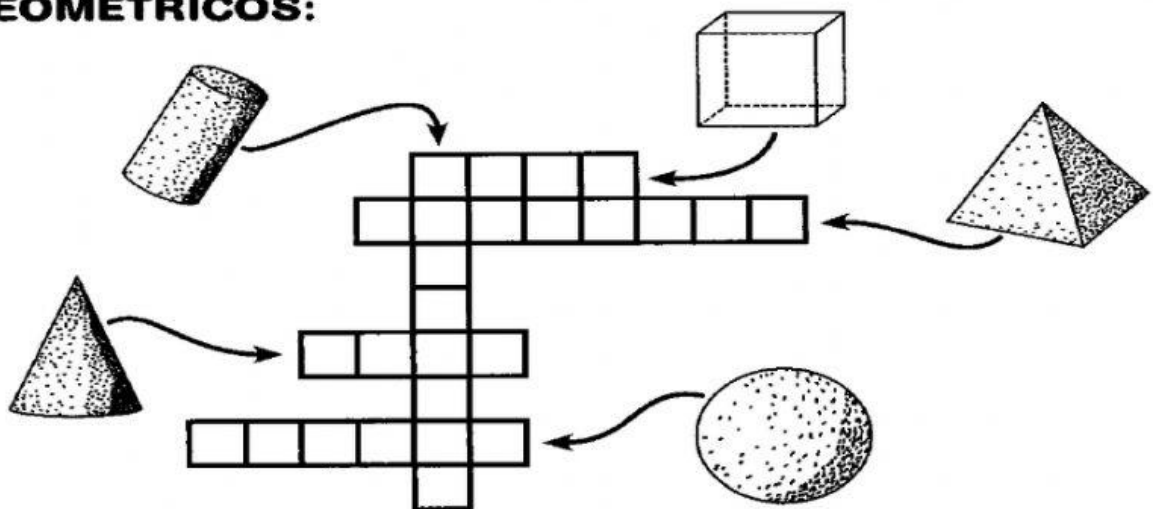
ATIVIDADE DE GEOMETRIA



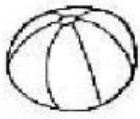
**LIGUE OS DESENHOS ÀS FIGURAS
CORRESPONDENTES:**



**COMPLETE A CRUZADINHA SOBRE OS SÓLIDOS
GEOMÉTRICOS:**



Escreva o nome do sólido geometrico que cada figura lembra.




A bola lembra uma _____.



Um lápis lembra um _____.



Um funil lembra um _____.



Um dado lembra um _____.

<i>Figura</i>	<i>Nome da forma</i>	<i>Número de lados</i>
	<i>Triângulo</i>	<i>3 Lados</i>