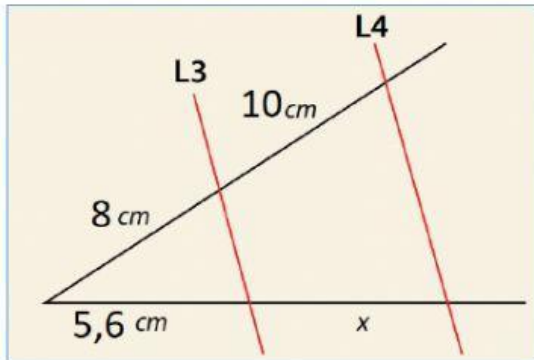
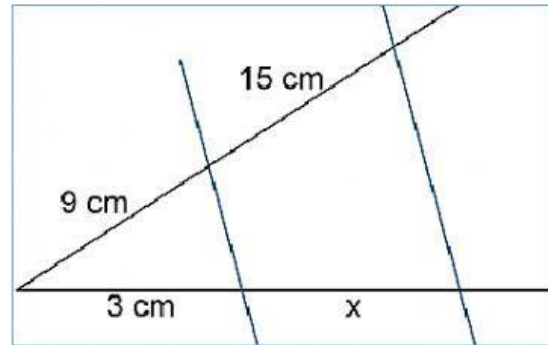


## FICHA INTERACTIVA: décimo

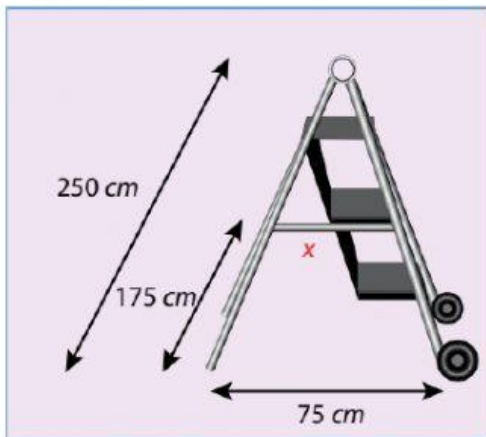
1. Determine el valor de "x" de las siguientes imágenes:



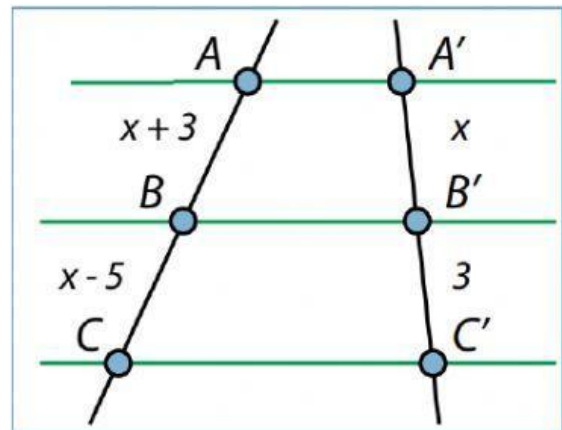
$x =$



$x =$



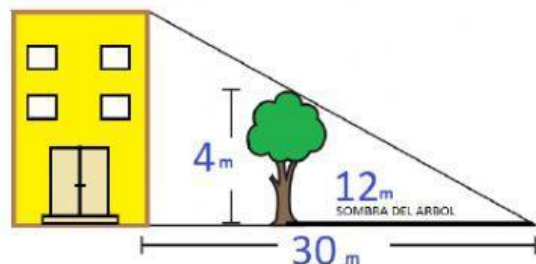
$x =$

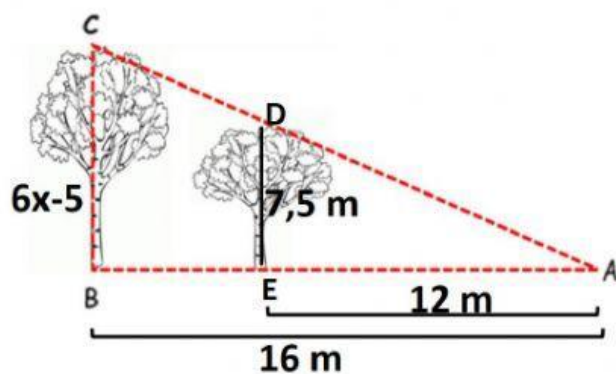


$x =$

2. ¿Cuál es la altura del edificio si se conocen los datos que se muestran en la figura? *Seleccione la respuesta correcta.*

R// El edificio mide  m





3. ¿Cuál es la altura del árbol más grande?  
 Seleccione la respuesta correcta.

R// El edificio mide  m

4. ¿Cuál es la altura de Juan? Seleccione la respuesta correcta.

R// Juna mide  m

