


Aluno (a)

Turma: 4º Ano "C"

Assunto: Sistema de Orientação

**Atividade Interativa de Geografia**

**1. Anote os PONTOS CARDEAIS nesta imagem.**



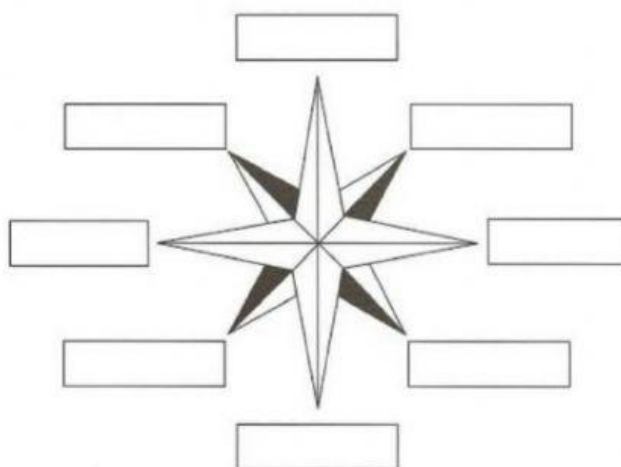
**2.**

**Retome a ilustração e responda. Estendendo o braço direito na direção em que nasce o sol, temos:**

a) à direita, o \_\_\_\_\_ b) à esquerda, o \_\_\_\_\_

c) à frente, o \_\_\_\_\_ d) atrás, o \_\_\_\_\_

**3. Arraste os nomes dos PONTOS CARDEAIS para Rosa-dos-ventos. Identificando corretamente os pontos cardeais.**



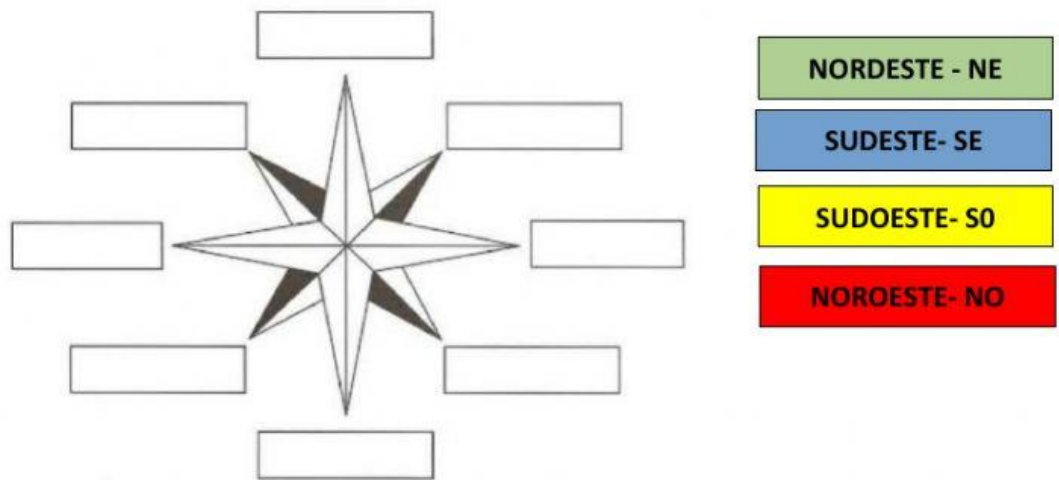
NORTE

SUL

LESTE

OESTE

4. Identifique corretamente na Rosa-dos-ventos os **pontos colaterais**.



5. Coloque V para as frases VERDADEIRAS e F para as frases FALSAS.

- A. ( ) A zona urbana é formada pelo centro da cidade e os bairros.
- B. ( ) Na zona rural, uma casa fica distante da outra.
- C. ( ) Na zona rural tem grandes lojas.
- D. ( ) Eu estudo na zona rural.
- E. ( ) Os alimentos naturais como frutas, verduras e legumes vem da zona urbana.
- F. ( ) Na zona rural o ar é poluído.
- G. ( ) Na zona urbana tem muita movimentação e trânsito.

6. A figura abaixo representa um bairro. Este bairro pertence a:

ZONA RURAL

ZONA URBANA

