



SANTA
TERESITA


Practicamos:

Descomposición de la decena

❖ En cada paquete hay 10 lápices, ¿cuántos lápices hay en total?

Marca las dos respuestas correctas:

1)




a) 3D y 6U

b) 2D y 6U

c) 36

d) 26

2)



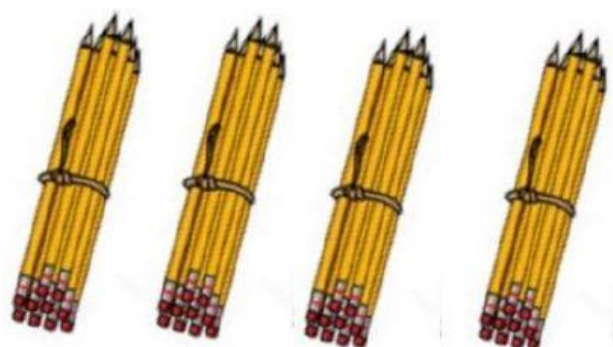
a) 1D y 18U

b) 1D y 15U

c) 28

d) 18

3)



a) 4D y 5U

b) 4D y 0U

c) 30

d) 40

4)



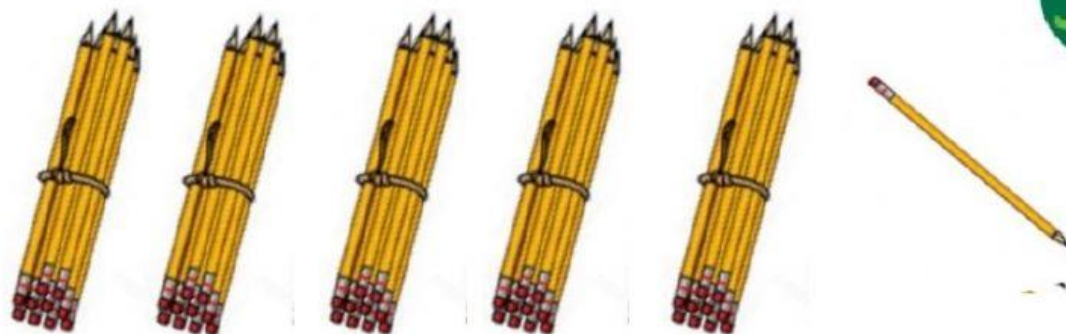
a) 2D y 12U

b) 3D y 14U

c) 42

d) 44

5)




a) 5D y 1U

b) 5D y 11U

c) 41

d) 51

6)



a) 3D y 18U

b) 3D y 8U

c) 38

d) 28