


1) ظلل الشكل البيضاوي يمين الإجابة
العدد الذي يمثل الشكل هو :

10 


11 

15 

13 





التقدير



2) قدر :

3) صل بين المجسم وعدد الأوجه :

العدد
6
5
2

المجسم



4) حوّل الإجابة الصحيحة :

مجسم له 5 أوجه مسطحة ، أوجهه الأربع مثلثة ووجه واحد مربع

أ) مكعب ب) هرم ذو قاعدة مربعة ج) اسطوانة د) كرة