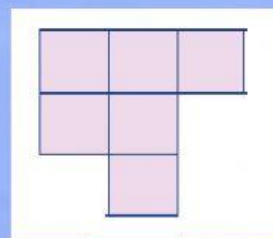
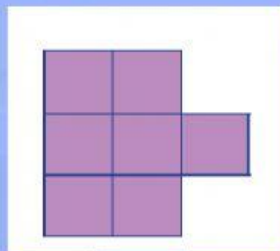
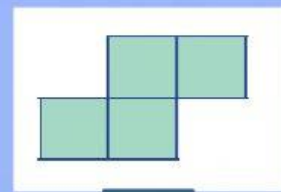
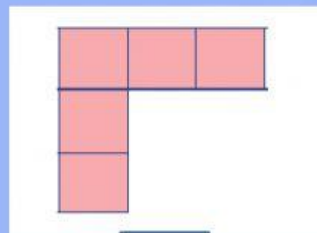



Nama
Kelas

Latihan 1

Tentukan keliling bangun berikut menggunakan satuan panjang!



Latihan 2

Penilaian Pembelajaran

5

Skor

1. Berilah tanda silang (X) pada huruf a, b, c, atau d di depan jawaban yang benar!

- Indonesia adalah negara yang memiliki beragam perbedaan antara setiap daerah, salah satunya dikarenakan Negara Indonesia memiliki
a. banyak suku bangsa
b. banyak gunung api
c. sungai yang panjang
d. hutan yang luas
- Keberagaman suku bangsa merupakan ... bangsa Indonesia.
a. kesulitan
b. kerugian
c. kehebatan
d. kekayaan
- Saat terjadi kebakaran di gedung pertokoan, beberapa saat kemudian suara alarm di gedung itu berbunyi dengan keras sehingga para penjual dan pembeli berlarian menyelamatkan diri. Hal ini menunjukkan bahwa

alarm yang dipasang di gedung berguna sebagai alat komunikasi yang mempunyai fungsi untuk
a. menimbulkan kepanikan
b. memberi peringatan
c. membubarkan pembeli
d. memberi kejutan

Perhatikan gambar berikut untuk menjawab soal nomor 4 dan 5!



- Luas bangun di atas adalah
a. 15
b. 18
c. 16
d. 17
- Keliling bangun di atas adalah
a. 18
b. 20
c. 22
d. 24