		<b>EVALUACIÓN SUMATIVA DE ESTUDIOS SOCIALES</b>		<b>AÑO LECTIVO 2020 - 2021</b>	
<b>ASIGNATURA:</b>	Estudios Sociales	<b>Nº. UNIDAD:</b>	Tercera	<b>FECHA:</b>	Marzo 2021
<b>DOCENTE:</b>	Lic. Guillermina Cárdenas/Lic. Andrea Guzmán	<b>GRADO:</b>	Cuarto:	<b>CALIFICACIÓN:</b>	

1. Enlace con una línea lo correcto. 4 PTS

**Siona y Secoya**



Se dividen en los siguientes pueblos: los canelo y los quijo.

**Kichwa amazónicos**

En las orillas del río Aguarico, se encuentran las nacionalidades.

**Shuar y Achuar**



Se alimentan a basa de yuca, plátano verde y la carne de animales.

**Waorani**

Se dedican al comercio de ganado y de maderas finas.

2. Seleccione la definición de la palabra  
**CULTURA**

1 PTS

Es un conjunto de  
costumbres, tradiciones,  
fiestas, leyendas, mitos,  
vestimenta, creencia, etc.  
que tiene un pueblo o un  
país.



Es un conjunto de de  
leyes  
que se debe cumplir la  
población de un pueblo  
o país, al pie de la letra

3. Cuenca es conocida como "Atenas del Ecuador" por  
su: Marque las palabras correctas. 4 PTS

**AGRICULTURA**

**LEYES**


**ARQUITECTURA**

**TRANVÍA**

**DIVERSIDAD  
CULTURAL**



**PESONAJES  
ILUSTRES**

**ARTES**





4. Identifique los problemas que tienen las ciudades debido al crecimiento poblacional. 3PTS



5. Seleccione la palabra correcta para completar las información. 5 PTS

**La Costa ecuatoriana puede verse afectada por \_\_\_\_\_ debido al \_\_\_\_\_ de que influye en el clima, con \_\_\_\_\_ y lluvias fuertes. También puede generarse \_\_\_\_\_, que son olas gigantes producto de terremotos en el fondo del mar.**

**Ecuador se encuentra sobre el \_\_\_\_\_ del Pacífico que libera la energía sísmica del planeta y que ocasiona terremotos.**